



ಕರ್ನಾಟಕ ಸರ್ಕಾರ

ಅಭ್ಯಾಸ ಪುಸ್ತಕ

(ಪರಿಷ್ಕೃತ ಪಠ್ಯಾಧಾರಿತ ಚಟುವಟಿಕೆ ಸಹಿತ)

ವಿಷಯ: ಸಮಾಜ ವಿಜ್ಞಾನ

ಭಾಗ 2

9

ಒಂಬತ್ತನೆಯ ತರಗತಿ

2019-20

ಹೆಸರು	:	_____
ಶಾಲೆಯ ಹೆಸರು	:	_____
	:	_____

ರಾಜ್ಯ ಶಿಕ್ಷಣ ಸಂಶೋಧನೆ ಮತ್ತು ತರಬೇತಿ ಇಲಾಖೆ
100 ಅಡಿ ವರ್ತುಲ ರಸ್ತೆ, ಬನಶಂಕರಿ 3ನೇ ಹಂತ
ಬೆಂಗಳೂರು-560085.

ಅಭ್ಯಾಸ ಪುಸ್ತಕ ರಚನಾ ಸಮಿತಿ

ಪರಿಕಲ್ಪನೆ ಮತ್ತು ಮಾರ್ಗದರ್ಶನ

ಎಸ್.ಆರ್.ಉಮಾಶಂಕರ್. ಭಾ.ಆ.ಸೇ. . ಪ್ರಧಾನ ಕಾರ್ಯದರ್ಶಿಗಳು ಪ್ರಾಥಮಿಕ ಮತ್ತು ಪ್ರೌಢಶಿಕ್ಷಣ ಇಲಾಖೆ ಬೆಂಗಳೂರು	ಡಾ ಕೆ. ಜಿ. ಜಗದೀಶ್, ಭಾ.ಆ.ಸೇ. ಆಯುಕ್ತರು, ಸಾರ್ವಜನಿಕ ಶಿಕ್ಷಣ ಇಲಾಖೆ ಬೆಂಗಳೂರು	ಡಾ ಎಂ. ಟಿ. ರೇಜು, ಭಾ.ಆ.ಸೇ. ರಾಜ್ಯ ಯೋಜನಾ ನಿರ್ದೇಶಕರು ಸಮಗ್ರ ಶಿಕ್ಷಣ, ಬೆಂಗಳೂರು
--	---	---

ಸಲಹೆ ಮತ್ತು ಮಾರ್ಗದರ್ಶನ

ಎಚ್. ಎನ್. ಗೋಪಾಲಕೃಷ್ಣ, ನಿರ್ದೇಶಕರು, ಡಿ.ಎಸ್.ಇ.ಆರ್.ಟಿ ಬೆಂಗಳೂರು
 ಟಿ. ಎನ್. ಗಾಯತ್ರಿದೇವಿ, ಸಹ ನಿರ್ದೇಶಕರು, ಡಿ.ಎಸ್.ಇ.ಆರ್.ಟಿ ಬೆಂಗಳೂರು
 ಎನ್. ಕೆಂಚೇಗೌಡ, ಉಪ ನಿರ್ದೇಶಕರು, ಡಿ.ಎಸ್.ಇ.ಆರ್.ಟಿ ಬೆಂಗಳೂರು
 ಅಂಜಲೀನ ಕ್ರಿಸ್ತಿನಾ, ಕಾರ್ಯಕ್ರಮ ಸಂಯೋಜಕರು ಹಾಗೂ ಹಿ. ಸ. ನಿ., ಡಿ.ಎಸ್.ಇ.ಆರ್.ಟಿ ಬೆಂಗಳೂರು
 ಶ್ರೀಧರ್. ಎ ಪರಿಶೀಲಕರು ಹಾಗೂ ಹಿರಿಯ ಉಪನ್ಯಾಸಕರು ಡಯಟ್ ತುಮಕೂರು

ಸಂಪನ್ಮೂಲ ವ್ಯಕ್ತಿಗಳು

ರಾಮಕೃಷ್ಣಯ್ಯ ವೈ. ಎನ್. ಪ್ರಾಂಶುಪಾಲರು, ಜಿಲ್ಲಾ ಶಿಕ್ಷಣ ಮತ್ತು ತರಬೇತಿ ಸಂಸ್ಥೆ ಮಧುಗಿರಿ ಸಾಹಿತ್ಯ ಮಾರ್ಗದರ್ಶಕರು.
 ನರಸಿಂಹಮೂರ್ತಿ ಡಿ.ಎ. ಉಪನ್ಯಾಸಕರು ಡಯಟ್ ಮಧುಗಿರಿ.
 ಉಮೇಶ್. ಎಂ. ಎನ್. ಸಹ ಶಿಕ್ಷಕರು, ಜಿ. ಜೆ. ಸಿ. ಪಟ್ಟನಾಯಕನಹಳ್ಳಿ ಶಿರಾ ತಾ|| ಮಧುಗಿರಿ ಶೈಕ್ಷಣಿಕ ಜಿಲ್ಲೆ.
 ಸುರೇಶ್ ಕುಮಾರ್ ಸಹ ಶಿಕ್ಷಕರು ಜಿ. ಎಚ್.ಎಸ್, ಶಿವನಗೆರೆ, ಮಧುಗಿರಿ ತಾ|| ಮಧುಗಿರಿ ಶೈಕ್ಷಣಿಕ ಜಿಲ್ಲೆ.
 ದೇವರಾಜು ಜಿ.ಸಿ. ಸಹ ಶಿಕ್ಷಕರು ಜಿ. ಜೆ. ಸಿ., ಬ್ಯಾಲೈ, ಮಧುಗಿರಿ ತಾ|| ಮಧುಗಿರಿ ಶೈಕ್ಷಣಿಕ ಜಿಲ್ಲೆ.
 ದೇವರಾಜು ಬಿ.ಟಿ. ಸಹ ಶಿಕ್ಷಕರು, ಜಿ. ಎಚ್.ಎಸ್, ಸಾಸಲುಕುಂಟೆ, ಪಾವಗಡ ತಾ|| ಮಧುಗಿರಿ ಶೈಕ್ಷಣಿಕ ಜಿಲ್ಲೆ.
 ಸುಮ ಟಿ. ಸಹ ಶಿಕ್ಷಕರು, ಜಿ.ಹೆಚ್.ಎಸ್, ದಾಸರಹಳ್ಳಿ, ಕೊರಟಗೆರೆ ತಾ|| ಮಧುಗಿರಿ ಶೈಕ್ಷಣಿಕ ಜಿಲ್ಲೆ.
 ಶಶಿಕಾಂತ್ ಡಿ. ಎಸ್. ಸಹ ಶಿಕ್ಷಕರು, ಜಿ.ಹೆಚ್.ಎಸ್, ಹನುಮಹಳ್ಳಿ, ಮಧುಗಿರಿ ತಾ|| ಮಧುಗಿರಿ ಶೈಕ್ಷಣಿಕ ಜಿಲ್ಲೆ..
 ಹರೀಶ್ ಬಾಬು ಎಲ್. ಜಿ. ಸಹ ಶಿಕ್ಷಕರು, ಜಿ.ಹೆಚ್.ಎಸ್, ಬೇವಿನಹಳ್ಳಿ, ಶಿರಾ ತಾ|| ಮಧುಗಿರಿ ಶೈಕ್ಷಣಿಕ ಜಿಲ್ಲೆ.
 ಮಂಜುನಾಥ ಸ್ವಾಮಿ ಟಿ. ಸಹ ಶಿಕ್ಷಕರು ಜಿ.ಹೆಚ್.ಎಸ್, ಚೆಂಗಾವರ, ಶಿರಾ ತಾ|| ಮಧುಗಿರಿ ಶೈಕ್ಷಣಿಕ ಜಿಲ್ಲೆ.
 ನಾಗನಗೌಡ ಬಿ. ಮೇಟಿ ಸಹ ಶಿಕ್ಷಕರು ಜಿ.ಜಿ.ಜೆ.ಸಿ. ಶಿರಾ ಮಧುಗಿರಿ ಶೈಕ್ಷಣಿಕ ಜಿಲ್ಲೆ.
 ರವಿ ಬಿ.ಎಸ್. ಸಹ ಶಿಕ್ಷಕರು, ಜಿ.ಹೆಚ್.ಎಸ್, ಹುಳಿಗರೆ. ಶಿರಾ ತಾ|| ಮಧುಗಿರಿ ಶೈಕ್ಷಣಿಕ ಜಿಲ್ಲೆ.
 ಸುಮಿತ್ರ ಈ. ಸಹ ಶಿಕ್ಷಕರು, ಜಿ.ಹೆಚ್.ಎಸ್, ಗುಂಡಗಲ್ಲು ಮಧುಗಿರಿ ತಾ|| ಮಧುಗಿರಿ ಶೈಕ್ಷಣಿಕ ಜಿಲ್ಲೆ.
 ಬಿ.ಎಂ. ಜಯರತ್ನ ಸಹ ಶಿಕ್ಷಕರು, ಜಿ.ಜೆ.ಸಿ ನೋಣವಿನಕೆರೆ ತಿಪಟೂರು ತಾ|| ತುಮಕೂರು ಜಿಲ್ಲೆ.
 ದೇವರಾಜು ಆರ್. ಸಹ ಶಿಕ್ಷಕರು ಜಿ.ಜಿ.ಜೆ.ಸಿ, ಕುಣಿಗಲ್ ತುಮಕೂರು ಜಿಲ್ಲೆ,
 ಪ್ರಕಾಶ್ ಎ. ಬಿ. ಸಹ ಶಿಕ್ಷಕರು ಜಿ.ಹೆಚ್.ಎಸ್, ಬರಗೂರು ಸಿ.ಎನ್. ಹಳ್ಳಿ ತಾ|| ತುಮಕೂರು ಜಿಲ್ಲೆ.
 ತಮ್ಮಯ್ಯ ಜಿ. ಹೆಚ್. ಸಹ ಶಿಕ್ಷಕರು ಜಿ.ಹೆಚ್.ಎಸ್, ಕೆಂಕೆರೆ ಸಿ.ಎನ್. ಹಳ್ಳಿ ತಾ|| ತುಮಕೂರು ಜಿಲ್ಲೆ.
 ಮೋಹನ್ ಕುಮಾರ್ ಸಹ ಶಿಕ್ಷಕರು ಜಿ.ಹೆಚ್.ಎಸ್, ಕೊಡವತ್ತಿ ಕುಣಿಗಲ್ ತಾ|| ತುಮಕೂರು ಜಿಲ್ಲೆ.

ಮುನ್ನುಡಿ

ಶಿಕ್ಷಣದ ದೈಯೋದ್ದೇಶಗಳಲ್ಲಿ ಆಗುತ್ತಿರುವ ಬದಲಾವಣೆಗಳು ಹಾಗೂ ಕಲಿಕೆಯ ವಿಧಾನವು ಪರೀಕ್ಷೆ/ಪಠ್ಯಪುಸ್ತಕಗಳನ್ನು ಆಧರಿಸದೇ ಸ್ವಕಲಿಕೆ ಮತ್ತು ಸಹಕಲಿಕೆಯನ್ನು ಆಧರಿಸುವತ್ತ ಸಾಗುತ್ತಿರುವ ಹಿನ್ನೆಲೆಯಲ್ಲಿ ತರಗತಿಯಲ್ಲಿ ಮಕ್ಕಳಿಗೆ ಕಲಿಕೆಗೆ ಅನುಕೂಲಿಸುವ ಸನ್ನಿವೇಶಗಳನ್ನು ನೀಡುವುದರೊಂದಿಗೆ ಉತ್ತಮವಾದ ಕಲಿಕಾ ಸಾಮಗ್ರಿಗಳನ್ನು ಒದಗಿಸುವುದು ಅತ್ಯಾವಶ್ಯಕವಾಗಿದೆ. ಆದ್ದರಿಂದ 2017-18ನೇ ಶೈಕ್ಷಣಿಕ ವರ್ಷದಲ್ಲಿ 4 ರಿಂದ 9ನೇ ತರಗತಿಗಳಿಗೆ ಕನ್ನಡ ಮತ್ತು ಗಣಿತ ವಿಷಯಗಳಲ್ಲಿ ಹಾಗೂ 5 ರಿಂದ 9 ನೇ ತರಗತಿಗಳಿಗೆ ಇಂಗ್ಲಿಷ್ ವಿಷಯದಲ್ಲಿ ಅಭ್ಯಾಸ ಪುಸ್ತಕಗಳನ್ನು ರಚಿಸಲಾಗಿದೆ. ಈ ಅಭ್ಯಾಸ ಪುಸ್ತಕಗಳನ್ನು ವಿದ್ಯಾರ್ಥಿಗಳಿಗೆ ವಿತರಿಸಲಾಗಿದ್ದು, ಇದನ್ನು ಬಳಸಿದ ತರಗತಿ ಶಿಕ್ಷಕರಿಂದ, ಪೋಷಕರಿಂದ ಹಾಗೂ ಶಿಕ್ಷಣಾಸಕ್ತರಿಂದ ಸಲಹೆ, ಹಿಮ್ಮಾಹಿತಿಗಳು ಬಂದಿದ್ದು, 2019-20ನೇ ಸಾಲಿಗೆ ಇವುಗಳನ್ನು ಪರಿಷ್ಕರಿಸಿ, ಅಗತ್ಯ ತಿದ್ದುಪಡಿ ಮಾಡಲಾಗಿದೆ. ಪೋಷಕರ ಆಪೇಕ್ಷೆಯಂತೆ 9ನೇ ತರಗತಿಯ ವಿದ್ಯಾರ್ಥಿಗಳಿಗೆ ಈ ವರ್ಷದಿಂದ ಸಮಾಜವಿಜ್ಞಾನ ವಿಷಯಕ್ಕೆ ಸಂಬಂಧಿಸಿದಂತೆ ಅಭ್ಯಾಸ ಪುಸ್ತಕವನ್ನು ರಚಿಸಲಾಗಿದೆ. ಪ್ರತಿ ರೂಪಣಾತ್ಮಕ ಮೌಲ್ಯಮಾಪನದ ಅಂತ್ಯದಲ್ಲಿ ಕಿರು ಪರೀಕ್ಷೆಯನ್ನು (Micro test) ನೀಡಿದ್ದು, ಸ್ವ ಮೌಲ್ಯಮಾಪನ ಮಾಡಲು ವಿದ್ಯಾರ್ಥಿಗಳಿಗೆ ಸ್ವ ಮೌಲ್ಯಮಾಪನ ಸಾಧನವನ್ನು ನೀಡಿದೆ.

ಶ್ರೇಣೀಕರಿಸಿದ ಅಭ್ಯಾಸಗಳನ್ನು ಈ ಅಭ್ಯಾಸ ಪುಸ್ತಕದಲ್ಲಿ ನೀಡಿದ್ದು, ಈ ಅಭ್ಯಾಸಗಳು ವೈವಿಧ್ಯತೆಯಿಂದ ಕೂಡಿವೆ. ಹೆಚ್ಚಿನ ಅಭ್ಯಾಸಗಳು ಗಳಿಸಿದ ಜ್ಞಾನವನ್ನು ಜೀವನದಲ್ಲಿ ಅಳವಡಿಸುವಂತಹವುಗಳಾಗಿವೆ. ಈ ಅಭ್ಯಾಸ ಪುಸ್ತಕಗಳಲ್ಲಿ ಶಿಕ್ಷಕರಿಗೆ ಚಟುವಟಿಕೆಗಳೊಂದಿಗೆ ಸೂಚನೆಗಳನ್ನು ನೀಡಿದ್ದು, ಶಿಕ್ಷಕರು ಅವುಗಳನ್ನು ಓದಿ ತರಗತಿಯಲ್ಲಿ ಮಕ್ಕಳ ಕಲಿಕೆಗೆ ಅತ್ಯಾವಶ್ಯಕವಾದ ಸನ್ನಿವೇಶಗಳನ್ನು ಒದಗಿಸಿಕೊಡಬೇಕು. ಈ ಅಭ್ಯಾಸ ಪುಸ್ತಕದಲ್ಲಿ ನೀಡಿರುವ ಚಟುವಟಿಕೆಗಳ ಗುರಿಗಳು ಮಕ್ಕಳು ಅತ್ಯಾವಶ್ಯಕವಾದ ಸಾಮರ್ಥ್ಯಗಳನ್ನು ಕರಗತ ಮಾಡಿಕೊಳ್ಳಲು ಸಹಾಯಕವಾಗುತ್ತವೆ. ಕ್ಲಿಷ್ಟಕರ ಭಾಗಕ್ಕೆ ಹೆಚ್ಚಿನ ಚಟುವಟಿಕೆ ಹಾಗೂ ಕಡಿಮೆ ಕ್ಲಿಷ್ಟಕರ ಭಾಗಕ್ಕೆ ಕಡಿಮೆ ಚಟುವಟಿಕೆಗಳನ್ನು ನೀಡಲಾಗಿದೆ. ಈ ಚಟುವಟಿಕೆಗಳನ್ನು ತರಗತಿಗಳಲ್ಲಿ, ತರಗತಿಯ ನಂತರ ಅಥವಾ ಮನೆಯಲ್ಲಿ ಮಾಡಬಹುದಾಗಿದೆ. ಯಾವುದೇ ವಿಷಯಕ್ಕೆ ನೇರ ವ್ಯಾಖ್ಯೆಯನ್ನು ನೀಡದೆ ಆಕರ್ಷಕ ಚಿತ್ರ, ಓದು, ಬರಹದ ಮೂಲಕ ಮಕ್ಕಳು ಅದನ್ನು ಅರ್ಥೈಸಿಕೊಳ್ಳುವಂತೆ ಸರಳವಾಗಿ ರೂಪಿಸಲಾಗಿದೆ. ಇಲ್ಲಿ ನೀಡಿರುವ ಚಟುವಟಿಕೆಗಳೇ ಅಂತಿಮವಲ್ಲ. ಕಲಿಕೆಗೆ ಸಂಬಂಧಿಸಿದಂತೆ ಪರಿಸರದಲ್ಲಿನ ಅಂಶಗಳನ್ನು ಆಧರಿಸಿ ಕಲಿಯಲು ಮಗುವಿಗೆ ಮುಕ್ತ ಅವಕಾಶ ನೀಡಬೇಕು. ಮಗು ಮಾಡಿದ ಚಟುವಟಿಕೆಗಳನ್ನು ಗಮನಿಸಿ ಶಿಕ್ಷಕರು ತಮ್ಮ ಅಭಿಪ್ರಾಯಗಳನ್ನು ವ್ಯಕ್ತಪಡಿಸಲು ಅವಕಾಶ ಕಲ್ಪಿಸಲಾಗಿದೆ.

ಅಭ್ಯಾಸ ಪುಸ್ತಕಗಳ ರಚನೆಯಲ್ಲಿ ಸಹಕರಿಸಿದ ರಾಷ್ಟ್ರೀಯ ಮಾಧ್ಯಮಿಕ ಶಿಕ್ಷಣ ಅಭಿಯಾನ (ಆರ್.ಎಮ್. ಎಸ್.ಎ), ಕರ್ನಾಟಕ ಪಠ್ಯಪುಸ್ತಕ ಸಂಘ ಹಾಗೂ ರಚನಾ ಸಮಿತಿಯವರಿಗೆ ಡಿ.ಎಸ್.ಇ.ಆರ್.ಟಿ ಆಭಾರಿಯಾಗಿದೆ. ಈ ಅಭ್ಯಾಸ ಪುಸ್ತಕಗಳನ್ನು ವಿದ್ಯಾರ್ಥಿಗಳು ನಿರೀಕ್ಷಿತ ಉದ್ದೇಶಕ್ಕೆ ಪೂರ್ಣ ಪ್ರಮಾಣದಲ್ಲಿ ಬಳಸಿಕೊಳ್ಳಬೇಕೆಂಬುದು ನಮ್ಮ ಆಶಯ. ಆಗ ನಿಜವಾದ ಅರ್ಥದಲ್ಲಿ ಗುಣಮಟ್ಟದ ಶಿಕ್ಷಣವನ್ನು ಸಾಕಾರಗೊಳಿಸಲು ಸಾಧ್ಯವಾಗುತ್ತದೆ.

ದಿನಾಂಕ : 21-05-2019

ಬೆಂಗಳೂರು

ಎಸ್.ಆರ್.ಉಮಾಶಂಕರ್, ಭಾ.ಆ.ಸೇ.

ಪ್ರಧಾನ ಕಾರ್ಯದರ್ಶಿಗಳು

ಪ್ರಾಥಮಿಕ ಮತ್ತು ಪ್ರೌಢಶಿಕ್ಷಣ ಇಲಾಖೆ

ಬೆಂಗಳೂರು

ಪರಿವಿಡಿ

ಕ್ರ.ಸಂ	ಪಠ್ಯ ಪುಸ್ತಕದಲ್ಲಿದ್ದಂತೆ ಅಧ್ಯಾಯ ಸಂಖ್ಯೆ	ವಿಷಯ	ಪುಟ ಸಂಖ್ಯೆ
20	ಇತಿಹಾಸ-5	ಮೊಘಲರು ಮತ್ತು ಮರಾಠರು	1-4
21	ಇತಿಹಾಸ-6	ಭಕ್ತಿ ಪಂಥ	5-8
22	ರಾಜ್ಯಶಾಸ್ತ್ರ-4	ನ್ಯಾಯಾಂಗ ವ್ಯವಸ್ಥೆ	9-11
23	ರಾಜ್ಯಶಾಸ್ತ್ರ-5	ಭಾರತದ ಚುನಾವಣಾ ವ್ಯವಸ್ಥೆ	12-14
24	ಸಮಾಜಶಾಸ್ತ್ರ-3	ಸಾಮಾಜಿಕ ಬದಲಾವಣೆ	15-17
25	ಭೂಗೋಳ ವಿಜ್ಞಾನ-6	ಖನಿಜ ಸಂಪನ್ಮೂಲಗಳು	18-20
26	ಭೂಗೋಳ ವಿಜ್ಞಾನ-7	ಸಾರಿಗೆ	21-24
27	ಭೂಗೋಳ ವಿಜ್ಞಾನ-8	ಕರ್ನಾಟಕದ ಕೈಗಾರಿಕೆಗಳು	25-28
28	ಅರ್ಥಶಾಸ್ತ್ರ-3	ಬಡತನ ಮತ್ತು ಹಸಿವು	29-31
29	ವ್ಯವಹಾರ ಅಧ್ಯಯನ-2	ಹಣಕಾಸಿನ ನಿರ್ವಹಣೆ	32-36
30		ರೂಪಣಾತ್ಮಕ ಪರೀಕ್ಷೆ - 3	37-39
31	ಇತಿಹಾಸ-7	ಮದ್ಯಯುಗದ ಯುರೋಪ್	40-42
32	ಇತಿಹಾಸ-8	ಆಧುನಿಕ ಯುರೋಪ್	43-45
33	ಇತಿಹಾಸ-9	ಕ್ರಾಂತಿಗಳು ಮತ್ತು ರಾಷ್ಟ್ರಗಳ ಏಕೀಕರಣ	46-49
34	ರಾಜ್ಯಶಾಸ್ತ್ರ-6	ದೇಶದ ರಕ್ಷಣೆ	50-53
35	ರಾಜ್ಯಶಾಸ್ತ್ರ-7	ರಾಷ್ಟ್ರೀಯ ಭಾವೈಕ್ಯತೆ	54-56
36	ಸಮಾಜಶಾಸ್ತ್ರ-4	ಸಮುದಾಯ	57-59
37	ಭೂಗೋಳ ವಿಜ್ಞಾನ-9	ಕರ್ನಾಟಕದ ಪ್ರಮುಖ ಪ್ರವಾಸಿ ಕೇಂದ್ರಗಳು	60-63
38	ಭೂಗೋಳ ವಿಜ್ಞಾನ-10	ಕರ್ನಾಟಕದ ಜನಸಂಖ್ಯೆ	64-67
39	ಅರ್ಥಶಾಸ್ತ್ರ-4	ಶ್ರಮ ಹಾಗೂ ಉದ್ಯೋಗ	68-71
40	ವ್ಯವಹಾರ ಅಧ್ಯಯನ-3	ವ್ಯವಹಾರದಲ್ಲಿ ಲೆಕ್ಕ ಬರಹ	72-75
41		ರೂಪಣಾತ್ಮಕ ಪರೀಕ್ಷೆ - 4	76-78

ವಿದ್ಯಾರ್ಥಿಗಳು ಗಮನಿಸಬೇಕಾದ ಅಂಶಗಳು

- ಈ ಅಭ್ಯಾಸ ಪುಸ್ತಕದ ಪ್ರತಿ ಪುಟವನ್ನು ದಿನಕ್ಕೊಂದರಂತೆ ಅಭ್ಯಾಸ ಮಾಡಬೇಕು.
- ಅಭ್ಯಾಸ ಪುಸ್ತಕದಲ್ಲಿ ಒಂದು ಪುಟ ಪೂರ್ಣಗೊಳಿಸಿದ ನಂತರವೇ ಮುಂದಿನ ಪುಟಕ್ಕೆ ಹೋಗಬೇಕು.
- ಚಟುವಟಿಕೆಗಳು ಅರ್ಥವಾಗದಿದ್ದಲ್ಲಿ ಸ್ನೇಹಿತರ/ಶಿಕ್ಷಕರ ಸಹಾಯ ಪಡೆಯುವುದು.
- ಸ್ವಯಂ ಮೌಲ್ಯ ಮಾಪನ ಪುಟದಲ್ಲಿ ನಿಮಗಿಷ್ಟವಾದ ಚಟುವಟಿಕೆಗಳಿಗೆ '☺' ಸಂಕೇತವನ್ನು, ಭಾಗಶಃ ಇಷ್ಟವಾಗಿದ್ದಲ್ಲಿ '☹' ಸಂಕೇತವನ್ನು ಹಾಗೂ ಇಷ್ಟವಾಗದೇ ಇದ್ದಲ್ಲಿ '☹' ಸಂಕೇತವನ್ನು ಗುರುತಿಸಬೇಕು.

ಶಿಕ್ಷಕರು ಗಮನಿಸಬೇಕಾದ ಅಂಶಗಳು

- ಈ ತರಗತಿಯಲ್ಲಿ ವಿದ್ಯಾರ್ಥಿಗಳು ನಿರ್ದಿಷ್ಟಪಡಿಸಿದ ಕಲಿಕಾ ಫಲಗಳನ್ನು ಗಳಿಸಿಕೊಳ್ಳಲು ನಿರೀಕ್ಷಿಸಲಾಗಿದೆ.
- ಅಭ್ಯಾಸ ಪುಸ್ತಕಗಳ ಸಮರ್ಪಕ ಬಳಕೆಯ ಮೂಲಕ ಮಕ್ಕಳು ಈ ಕಲಿಕಾ ಫಲಗಳನ್ನು ಸಾಧಿಸಲು ಶಿಕ್ಷಕರು ಸಹಕರಿಸಲು ತಿಳಿಸಿದೆ.
- ಶಿಕ್ಷಕರ ಅಭಿಪ್ರಾಯ ಸೂಚಿಸುವ ಭಾಗದಲ್ಲಿ ಮೂರು ಶ್ರೇಣಿಗಳಾದ 'ಅತ್ಯುತ್ತಮ', 'ಉತ್ತಮ' ಹಾಗೂ 'ಸಾಧಾರಣ' ಶ್ರೇಣಿಗಳನ್ನು ಪ್ರತಿ ಘಟಕದ/ಪಾಠದ ನಂತರ ನೀಡಿರುವ ಪಟ್ಟಿಯಲ್ಲಿ ದಾಖಲಿಸಬೇಕು.
- ಇದು ವಿದ್ಯಾರ್ಥಿಗಳು ಕಲಿಕಾ ಫಲಗಳನ್ನು ಗಳಿಸಿಕೊಂಡಿರುವ ಹಂತವನ್ನು ಸೂಚಿಸುತ್ತದೆ.

ಮೊಘಲರು ಮತ್ತು ಮರಾಠರು

I. ಈ ಕೆಳಗಿನ ಪ್ರಶ್ನೆಗಳಿಗೆ ನಾಲ್ಕು ಉತ್ತರಗಳನ್ನು ನೀಡಲಾಗಿದೆ. ಸರಿಯಾದ ಉತ್ತರವನ್ನು ಆರಿಸಿ ಬರೆಯಿರಿ.

1) ಮೊದಲನೇ ಪಾಣಿಪತ್ ಯುದ್ಧ ನಡೆದ ವರ್ಷ.

ಎ) 1520

ಬಿ) 1526

ಸಿ) 1561

ಡಿ) 1572

ಉತ್ತರ : _____

2) 'ದಾಮ್' ಎಂಬ ಹೊಸ ಬೆಳ್ಳಿಯ ರೂಪಾಯಿ ನಾಣ್ಯವನ್ನು ಜಾರಿಗೆ ತಂದವರು.

ಎ) ಬಾಬರ್

ಬಿ) ಹುಮಾಯೂನ್

ಸಿ) ಶೇರ್‌ಷಾ

ಡಿ) ಅಕ್ಬರ್

ಉತ್ತರ : _____

3) '2ನೇ ಶಿವಾಜಿ' ಯೆಂದು ಪ್ರಸಿದ್ಧರಾದವರು.

ಎ) ಒಂದನೇ ಬಾಜೀರಾಯ್

ಬಿ) ಬಾಲಾಜಿ ಬಾಜಿ ರಾವ್

ಸಿ) ಒಂದನೇ ಮಾಧವರಾವ್

ಡಿ) ಶಾಹು

ಉತ್ತರ : _____

4) 'ಜಿಂದಾಫಕೀರ್' ಎಂದು ಹೆಸರಾದ ಮೊಘಲ್ ಸಾಮ್ರಾಟ.

ಎ) ಅಕ್ಬರ್

ಬಿ) ಬಾಬರ್

ಸಿ) ಹುಮಾಯೂನ್

ಡಿ) ಔರಂಗಜೇಬ

ಉತ್ತರ : _____

5) 'ಜುಬ್ಬಿ' ಪದ್ಧತಿಯನ್ನು ರೂಪಿಸಿದವರು.

ಎ) ತೋದರಮಲ್ಲ

ಬಿ) ಅಬುಲ್‌ಫಜಲ್

ಸಿ) ಬೀರಬಲ್

ಡಿ) ಮಾನ್‌ಸಿಂಗ್

ಉತ್ತರ : _____

II. ಬಿಟ್ಟ ಸ್ಥಳಗಳನ್ನು ಸೂಕ್ತವಾದ ಉತ್ತರದೊಂದಿಗೆ ಭರ್ತಿ ಮಾಡಿ.

1) ಔರಂಗಜೇಬನೊಂದಿಗೆ ಯುದ್ಧ ಪ್ರಾರಂಭಿಸಿದ ಮರಾಠ ಮಹಿಳೆ _____

2) ಶಿವಾಜಿಗೆ ರಾಯಘಡದಲ್ಲಿ ಪಟ್ಟಾಭಿಷೇಕವಾದ ವರ್ಷ _____

3) ಶಿವಾಜಿಗಿದ್ದ ಬಿರುದು _____

4) ರಾಮಾಯಣವನ್ನು ಪರ್ಶಿಯನ್ ಭಾಷೆಗೆ ಭಾಷಾಂತರಿಸಿದವನು _____

5) ಶೇರ್ಷಾನ ಮೂಲ ಹೆಸರು _____

III. ಮೊದಲೆರಡು ಪದಗಳಿಗಿರುವ ಸಂಬಂಧವನ್ನು ಗ್ರಹಿಸಿ 3ನೇ ಪದಕ್ಕೆ ಸಂಬಂಧ ಕಲ್ಪಿಸಿ ಬರೆಯಿರಿ.

1) ಕಣ್ಣು ಮತ್ತು ಗೋಗ್ರ ಯುದ್ಧಗಳು : ಬಾಬರ್ :: ಹಳದಿ ಫಾಟ್ ಯುದ್ಧ : _____

2) ಅಕ್ಬರ್ : ಅಮರಕೋಟೆ :: ಶಿವಾಜಿ : _____

3) ಗ್ವಾಲಿಯರ್ : ಸಿಂಧಿಯಾ :: ಬರೋಡಾ : _____

4) ಸುಭಾ : ಪ್ರಾಂತ್ಯ :: ಸರ್ಕಾರ್ : _____

IV. ಈ ಕೆಳಗಿನ ಪ್ರಶ್ನೆಗಳಿಗೆ 2-3 ವಾಕ್ಯದಲ್ಲಿ ಉತ್ತರಿಸಿ.

1) ಷಹಜಹಾನ್‌ನ ಅಲ್ಪಕೆಯ ಅವಧಿಯನ್ನು ಸುವರ್ಣಯುಗವೆಂದು ಕರೆಯಲಾಗಿದೆ. ಏಕೆ?

ಉತ್ತರ : _____

2) ಮೊಘಲರ ಕಾಲದ ಪ್ರಮುಖ ಚಿತ್ರಕಾರರನ್ನು ಹೆಸರಿಸಿ.

ಉತ್ತರ : _____

3) ಪುರಂದರ ಒಪ್ಪಂದದ ಮುಖ್ಯಾಂಶಗಳೇನು?

ಉತ್ತರ : _____

V. ಈ ಕೆಳಗಿನವುಗಳಿಗೆ ಲಘು ಟಿಪ್ಪಣಿ ಬರೆಯಿರಿ.

1) ಬಂದೋಬಸ್ತ್ ಪದ್ಧತಿ

ಉತ್ತರ: _____

2) ಶಿವಾಜಿಯ ಕಂದಾಯ ಪದ್ಧತಿ

ಉತ್ತರ: _____

VI. ಕೆಳಗಿನ ಪ್ರಶ್ನೆಗಳಿಗೆ 5-6 ವಾಕ್ಯಗಳಲ್ಲಿ ಉತ್ತರಿಸಿ.

1) ಅಕ್ಷರನ ಆಡಳಿತಾತ್ಮಕ ಸುಧಾರಣೆಗಳನ್ನು ವಿವರಿಸಿ.

ಉತ್ತರ: _____

2) ಮೊಘಲರ ಆಡಳಿತ ಮತ್ತು ಕಂದಾಯ ವ್ಯವಸ್ಥೆಯನ್ನು ವಿವರಿಸಿ.

ಉತ್ತರ: _____

3) ಷೇಶ್ವೆಗಳ ಪ್ರಮುಖ ಸಾಧನೆಗಳನ್ನು ತಿಳಿಸಿ.

ಉತ್ತರ: _____

ವಿದ್ಯಾರ್ಥಿಯ ಸ್ವಮೌಲ್ಯಮಾಪನ

ಕ್ರ.ಸಂ	ಕಲಿಕಾ ಸೂಚಕಗಳು	😊	😐	😞
1.	ಅಕ್ಷರನ ಧಾರ್ಮಿಕ ಸಹಿಷ್ಣುತೆಯನ್ನು ಅರ್ಥೈಸಿಕೊಂಡಿದ್ದೇನೆ			
2.	ಮೊಘಲರ ಕಾಲದ ಪ್ರಮುಖ ಸ್ಮಾರಕಗಳನ್ನು ಗುರ್ತಿಸಬಲ್ಲೆನು			
3.	ಮರಾಠರ ಒಕ್ಕೂಟಗಳನ್ನು ನಕ್ಷೆಯಲ್ಲಿ ಗುರ್ತಿಸಬಲ್ಲೆನು			
4.	ಷೇಶ್ವೆಗಳ ಪ್ರಮುಖ ಸಾಧನೆಗಳನ್ನು ವಿವರಿಸಬಲ್ಲೆನು			

ಶಿಕ್ಷಕರ ಅಭಿಪ್ರಾಯ.

ಅತ್ಯುತ್ತಮ		ಉತ್ತಮ		ಸಾಧಾರಣ	
-----------	--	-------	--	--------	--

I. ಈ ಕೆಳಗಿನ ಪ್ರಶ್ನೆಗಳಿಗೆ ನಾಲ್ಕು ಉತ್ತರಗಳನ್ನು ನೀಡಲಾಗಿದೆ. ಸರಿಯಾದ ಉತ್ತರವನ್ನು ಆರಿಸಿ ಬರೆಯಿರಿ.

1) ಧರ್ಮ ಸುಧಾರಕರು ಮುಕ್ತಿಯನ್ನು ಪಡೆದುಕೊಳ್ಳಲು _____ ಮಾರ್ಗ ಸೂಚಿಸಿದರು.

ಎ) ಕರ್ಮ

ಬಿ) ಭಕ್ತಿ

ಸಿ) ಜ್ಞಾನ

ಡಿ) ಮೇಲಿನ ಎಲ್ಲವೂ

ಉತ್ತರ : _____

2) 'ಸೂಫಿ' ಎಂಬ ಸದಾ ಉಣ್ಣೆಯ ಅಂಗಿ ತೊಡುತ್ತಿದ್ದರಿಂದ ಮುಸ್ಲಿಂ ಸಂತರುಗಳನ್ನು _____ ಎಂದು ಕರೆದರು.

ಎ) ಅಲ್ಲಾ

ಬಿ) ಮಾಫೀ

ಸಿ) ಸೂಫೀ

ಡಿ) ಪೀರ

ಉತ್ತರ : _____

3) ಶಿಶುನಾಳ ಶರೀಫರ ಗುರುಗಳು

ಎ) ಗೋವಿಂದಭಟ್ಟರು

ಬಿ) ರಾಯಿದಾಸರು

ಸಿ) ಗುರುನಾನಕ್

ಡಿ) ಕುತ್‌ಬಿನ್

ಉತ್ತರ : _____

II. ಖಾಲಿ ಜಾಗವನ್ನು ಸೂಕ್ತ ಪದದಿಂದ ಭರ್ತಿ ಮಾಡಿ.

1) ಕಬೀರರು _____ ಎಂಬ ಪದ್ಯಗಳನ್ನು ರಚಿಸಿದರು.

2) ರಮಾನಂದರು ತಮ್ಮ ಉನ್ನತ ವ್ಯಾಸಂಗವನ್ನು _____ ಎಂಬಲ್ಲಿ ಮಾಡಿದರು.

3) ಚೈತನ್ಯರು _____ ಪಂಥದ ಅನುಯಾಯಿಗಳಾಗಿದ್ದರು.

4) ಭಕ್ತಿ ಪಂಥಕ್ಕೆ ಹೆಸರಾದ ಮೇವಾಡದ ರಜಪೂತ ರಾಜಕುಮಾರಿ _____

5) 'ಕರ್ನಾಟಕ ಸಂಗೀತ ಪಿತಾಮಹ' ಎಂಬ ಹೆಸರನ್ನು ಪಡೆದವರು _____

III. ಈ ಕೆಳಗೆ 'ಎ' ಪಟ್ಟಿಯಲ್ಲಿ ಧರ್ಮಸುಧಾರಕರ ಹೆಸರು ಮತ್ತು ಬಿ ಪಟ್ಟಿಯಲ್ಲಿ ಅವರ ಕಾಲವನ್ನು ನೀಡಲಾಗಿದೆ. ಸರಿಯಾದ ಕಾಲವನ್ನು ಹೊಂದಿಸಿ ಬರೆಯಿರಿ.

'ಎ' ಪಟ್ಟಿ	'ಬಿ' ಪಟ್ಟಿ	ಉತ್ತರಗಳು
1) ಪುರಂದರದಾಸರು	ಎ) 1486-1533	_____
2) ಗುರುನಾನಕ್	ಬಿ) 1819-1889	_____
3) ಶಿಶುನಾಳ ಶರೀಫರು	ಸಿ) 1484-1564	_____
4) ಚೈತನ್ಯ	ಡಿ) 1440-1510	_____
5) ಕಬೀರ್	ಇ) 1469-1539	_____

IV. ಈ ಕೆಳಗಿನ ಹೇಳಿಕೆಗಳಲ್ಲಿ ತಪ್ಪಾಗಿದ್ದು, ಅವುಗಳನ್ನು ಸರಿಪಡಿಸಿ ಬರೆಯಿರಿ.

1) ರಮಾನಂದರು ಗುಜರಾತ್‌ನ ಬ್ರಾಹ್ಮಣ ಕುಟುಂಬವೊಂದರಲ್ಲಿ ಜನಿಸಿದರು.

ಉತ್ತರ: _____

2) ಚೈತನ್ಯರು ಶೃಂಗೇರಿಯ ಶಾರದಾಮಾತೆಯನ್ನು ಕುರಿತು ಅನೇಕ ಭಕ್ತಿಗೀತೆಗಳನ್ನು ರಚಿಸಿದರು.

ಉತ್ತರ: _____

3) ಪುರಂದರದಾಸರು ಮತ್ತು ಕನಕದಾಸರು ತಮಿಳುನಾಡಿನ ಭಕ್ತಿ ಚಳುವಳಿಯ ಪ್ರಮುಖರಾಗಿದ್ದರು.

ಉತ್ತರ: _____

V. ಈ ಕೆಳಗಿನ ಪ್ರಶ್ನೆಗಳಿಗೆ ಒಂದು ವಾಕ್ಯದಲ್ಲಿ ಬರೆಯಿರಿ.

1) ಉತ್ತರ ಭಾರತದ ಪ್ರಮುಖ ಭಕ್ತಿ ಸಂತರು ಯಾರು ಯಾರು?

ಉತ್ತರ: _____

2) ಮೀರಾಬಾಯಿ ತನ್ನ ಬದುಕನ್ನೆಲ್ಲಾ ಯಾರಿಗಾಗಿ ಮೀಸಲಿಟ್ಟಿದ್ದಳು?

ಉತ್ತರ: _____

3) ಪುರಂದರದಾಸರ ತಂದೆ-ತಾಯಿಯ ಹೆಸರೇನು?

ಉತ್ತರ: _____

4) ಕನಕದಾಸರು ರಚಿಸಿದಂತಹ ಕೃತಿಗಳು ಯಾವುವು?

ಉತ್ತರ: _____

5) ಗುರುನಾನಕ್ರ ಬೋಧನೆಗಳನ್ನು ತಿಳಿಸಿ.

ಉತ್ತರ: _____

VI. ಟಿಪ್ಪಣಿ ಬರೆಯಿರಿ.

1) ಕನಕದಾಸರು

ಉತ್ತರ: _____

2) ಮೀರಾಬಾಯಿ

ಉತ್ತರ: _____

3) ಸೂಫಿ ಸಂತರು

ಉತ್ತರ: _____

VII. ಈ ಕೆಳಗೆ ಕೆಲವು ಅಕ್ಷರಗಳನ್ನು ಸ್ಥಾನಪಲ್ಲಟಗೊಳಿಸಲಾಗಿದೆ. ಅವುಗಳನ್ನು ಅರ್ಥಪೂರ್ಣವಾಗಿ ಜೋಡಿಸಿ ಬರೆಯಿರಿ.

- 1) ವಂ ತ ಡಿ ಳ ಉತ್ತರ : _____
 2) ಪು ಡ ರಾ ಪಂ ರ ಉತ್ತರ : _____
 3) ರಿ ಭ ಸಾ ಹ ಕ್ತಿ ರ ಉತ್ತರ : _____
 4) ರು ಗ್ರಂ ಸಾ ಗು ಥ ಬ್ ಹಿ ಉತ್ತರ : _____

VIII. ಈ ಕೆಳಗಿನ ಪ್ರಶ್ನೆಗೆ 3-4 ವಾಕ್ಯಗಳಲ್ಲಿ ಉತ್ತರಿಸಿ.

- 1) ಭಕ್ತಿ ಚಳುವಳಿಯ ಪರಿಣಾಮಗಳನ್ನು ವಿವರಿಸಿ.

ಉತ್ತರ: _____

ವಿದ್ಯಾರ್ಥಿಯ ಸ್ವಮೌಲ್ಯಮಾಪನ :

ಕ್ರ.ಸಂ	ಕಲಿಕಾ ಸೂಚಕಗಳು	😊	☹️	😞
1.	ಭಕ್ತಿಸಂತರ ಬೋಧನೆಗಳನ್ನು ಅರ್ಥ ತಿಳಿದುಕೊಂಡಿರುವೆನು			
2.	ಭಕ್ತಿ ಚಳುವಳಿಯ ಪರಿಣಾಮಗಳನ್ನು ತಿಳಿದುಕೊಂಡಿರುವೆನು			

ಶಿಕ್ಷಕರ ಅಭಿಪ್ರಾಯ.

ಅತ್ಯುತ್ತಮ		ಉತ್ತಮ		ಸಾಧಾರಣ	
-----------	--	-------	--	--------	--

I. ಕೊಟ್ಟಿರುವ ಹೇಳಿಕೆಯ ಕೆಳಗೆ ನಾಲ್ಕು ಪರ್ಯಾಯಗಳನ್ನು ನೀಡಲಾಗಿದೆ. ಸರಿಯಾದುದನ್ನು ಆರಿಸಿ ಬರೆಯಿರಿ.

1) ಕೇಂದ್ರ ಮತ್ತು ರಾಜ್ಯಗಳ ನಡುವಿನ ವಿವಾದಗಳನ್ನು ಬಗೆಹರಿಸುವ ಸರ್ವೋಚ್ಚ ನ್ಯಾಯಾಲಯದ ಅಧಿಕಾರ ವ್ಯಾಪ್ತಿ.

ಎ) ಮೂಲ ಅಧಿಕಾರ ವ್ಯಾಪ್ತಿ

ಬಿ) ಮೇಲ್ಮನವಿ ಅಧಿಕಾರ ವ್ಯಾಪ್ತಿ

ಸಿ) ಸಲಹಾ ಅಧಿಕಾರ ವ್ಯಾಪ್ತಿ

ಡಿ) ಜನತಾ ಅಧಿಕಾರ ವ್ಯಾಪ್ತಿ

ಉತ್ತರ : _____

2) ಭಾರತದ ಸರ್ವೋಚ್ಚ ನ್ಯಾಯಾಲಯದ ಕೇಂದ್ರ ಕಛೇರಿ ಇರುವ ಸ್ಥಳ _____

ಎ) ಮುಂಬೈ

ಬಿ) ಚೆನ್ನೈ

ಸಿ) ದೆಹಲಿ

ಡಿ) ಕಲ್ಕತ್ತಾ

ಉತ್ತರ : _____

3) ನ್ಯಾಯಾಲಯವೊಂದು ರಂಗಣ್ಣನಿಗೆ 3 ವರ್ಷಗಳವರೆಗೆ ಶಿಕ್ಷೆ ಅಥವಾ 5000 ದಂಡ ವಿಧಿಸಿದೆ. ಇದು ಯಾವ ನ್ಯಾಯಾಲಯದ ವ್ಯಾಪ್ತಿಗೆ ಒಳಪಟ್ಟ ಶಿಕ್ಷೆಯ ಪ್ರಮಾಣವಾಗಿದೆ.

ಎ) ಮುಖ್ಯ ಮ್ಯಾಜಿಸ್ಟ್ರೇಟ್ ನ್ಯಾಯಾಲಯ

ಬಿ) ಪ್ರಥಮ ದರ್ಜೆ ಮ್ಯಾಜಿಸ್ಟ್ರೇಟ್ ನ್ಯಾಯಾಲಯ

ಸಿ) ದ್ವಿತೀಯ ದರ್ಜೆ ಮ್ಯಾಜಿಸ್ಟ್ರೇಟ್ ನ್ಯಾಯಾಲಯ

ಡಿ) ತೃತೀಯ ದರ್ಜೆ ಮ್ಯಾಜಿಸ್ಟ್ರೇಟ್ ನ್ಯಾಯಾಲಯ

ಉತ್ತರ : _____

II. ಈ ಕೆಳಗಿನ ಪ್ರಶ್ನೆಗಳಿಗೆ ಒಂದು ವಾಕ್ಯದಲ್ಲಿ ಉತ್ತರಿಸಿ.

1) ಭಾರತದ ಸುಪ್ರೀಂಕೋರ್ಟ್‌ನ ಪ್ರಸ್ತುತ ಮುಖ್ಯ ನ್ಯಾಯಾಧೀಶರು ಹೆಸರೇನು?

ಉತ್ತರ : _____

2) ಸರ್ವೋಚ್ಚ ನ್ಯಾಯಾಲಯವು ಮೂಲಭೂತ ಹಕ್ಕುಗಳ ರಕ್ಷಣೆಗೆ ಹೊರಡಿಸುವ ವಿಶೇಷ ರಿಟ್ ಅರ್ಜಿಗಳಾವುವು?

ಉತ್ತರ : _____

3) ಸುಪ್ರೀಂಕೋರ್ಟ್‌ನ ನ್ಯಾಯಾಧೀಶರು ಕರ್ತವ್ಯ ಲೋಪ ಎಸಗಿದಾಗ ಯಾರು ಪದಚ್ಯುತಿಗೊಳಿಸುತ್ತಾರೆ?

ಉತ್ತರ : _____

4) ಅಪರಾಧ ನ್ಯಾಯಾಲಯ ಅಸ್ತಿತ್ವಕ್ಕೆ ಬಂದಿದ್ದು ಯಾವಾಗ?

ಉತ್ತರ : _____

5) ಸರ್ವೋಚ್ಚ ನ್ಯಾಯಾಲಯ ಯಾವಾಗ ಸ್ಥಾಪನೆಯಾಯಿತು?

ಉತ್ತರ : _____

III. ಈ ಕೆಳಗಿನ ಪ್ರಶ್ನೆಗಳಿಗೆ 2-3 ವಾಕ್ಯದಲ್ಲಿ ಉತ್ತರಿಸಿ.

1) ಸರ್ವೋಚ್ಚ ನ್ಯಾಯಾಲಯದ ನ್ಯಾಯದೀಶರಾಗಲು ಹೊಂದಿರಬೇಕಾದ ಅರ್ಹತೆಗಳು ಯಾವುವು?

ಉತ್ತರ : _____

2) ಇತ್ತೀಚಿನ ದಿನಗಳಲ್ಲಿ ಜನತಾ ನ್ಯಾಯಾಲಯದ ಪಾತ್ರ ಹೆಚ್ಚಾಗುತ್ತಿದೆ ಈ ಹೇಳಿಕೆಯನ್ನು ಸಮರ್ಥಿಸಿ .

ಉತ್ತರ : _____

IV. ಗುಂಪಿಗೆ ಸೇರದ ಪದವನ್ನು ಆರಿಸಿ ಬರೆಯಿರಿ.

1) ನಾಗರೀಕ ನ್ಯಾಯಾಲಯ, ಉಚ್ಚನ್ಯಾಯಾಲಯ, ಸರ್ವೋಚ್ಚ ನ್ಯಾಯಾಲಯ, ಜಿಲ್ಲಾ ನ್ಯಾಯಾಲಯ.

ಉತ್ತರ : _____

2) ಅಪೀಲು, ಮೇಲ್ಮನವಿ, ಡಿಕ್ರಿ, ಮೊಕದ್ದಮೆ, ತನಿಖೆ.

ಉತ್ತರ : _____

3) ವಕೀಲರು, ನ್ಯಾಯಾದೀಶರು, ಪ್ರಕರಣ ನ್ಯಾಯಾಲಯ.

ಉತ್ತರ : _____

4) ಆಸ್ತಿ ವಿವಾದ, ವೈವಾಹಿಕ ವಿವಾದ, ತೆರಿಗೆ ವಿವಾದ, ದೈಹಿಕಹಲ್ಲೆ ವಿವಾದ.

ಉತ್ತರ : _____

V. ಟಿಪ್ಪಣಿ ಬರೆಯಿರಿ.

1) ಜನತಾ ನ್ಯಾಯಾಲಯ

ಉತ್ತರ : _____

2) ನಾಗಾರೀಕ ನ್ಯಾಯಾಲಯ

ಉತ್ತರ : _____

ವಿದ್ಯಾರ್ಥಿಯ ಸ್ವಪೂಲ್ಯಮಾಪನ

ಕ್ರ.ಸಂ	ಕಲಿಕಾ ಸೂಚಕಗಳು	😊	☹️	😞
1.	ಭಾರತೀಯ ನ್ಯಾಯಾಂಗ ವ್ಯವಸ್ಥೆ ಬಗ್ಗೆ ತಿಳಿದಿರುವೆ			
2.	ಜನತಾ ನ್ಯಾಯಾಲಯಗಳ ಬಗ್ಗೆ ತಿಳಿದಿರುವೆ			
3.	ನ್ಯಾಯಾಲಯಗಳ ಕಾರ್ಯಗಳ ಬಗ್ಗೆ ತಿಳಿದಿರುವೆ			

ಶಿಕ್ಷಕರ ಅಭಿಪ್ರಾಯ.

ಅತ್ಯುತ್ತಮ		ಉತ್ತಮ		ಸಾಧಾರಣ	
-----------	--	-------	--	--------	--

ಭಾರತದ ಚುನಾವಣಾ ವ್ಯವಸ್ಥೆ

I. ಕೊಟ್ಟಿರುವ ಹೇಳಿಕೆಯ ಕೆಳಗೆ ನಾಲ್ಕು ಪರ್ಯಾಯಗಳನ್ನು ನೀಡಲಾಗಿದೆ. ಸರಿಯಾದುದನ್ನು ಆರಿಸಿ ಬರೆಯಿರಿ.

1) ಭಾರತದ ಚುನಾವಣಾ ಆಯೋಗ ಸ್ಥಾಪನೆಯಾಗಿದ್ದು.

ಎ) 1950 ಜನವರಿ 26

ಬಿ) 1947 ಆಗಸ್ಟ್ 15

ಸಿ) 1950 ಜನವರಿ 25

ಡಿ) 1949 ನವೆಂಬರ್ 26

ಉತ್ತರ : _____

2) ಭಾರತದ ಚುನಾವಣಾ ಆಯುಕ್ತರನ್ನು ನೇಮಿಸುವವರು.

ಎ) ಉಪರಾಷ್ಟ್ರಪತಿ

ಬಿ) ರಾಜ್ಯಪಾಲರು

ಸಿ) ಪ್ರಧಾನಮಂತ್ರಿ

ಡಿ) ರಾಷ್ಟ್ರಪತಿ

ಉತ್ತರ : _____

3) ಭಾರತದ ಸಂವಿಧಾನದ ಈ ವಿಧಿಯು ಚುನಾವಣಾ ಆಯೋಗದ ರಚನೆಯನ್ನು ತಿಳಿಸುತ್ತದೆ.

ಎ) 320

ಬಿ) 124

ಸಿ) 324

ಡಿ) 329

ಉತ್ತರ : _____

II. ಈ ಕೆಳಗಿನ ಪ್ರಶ್ನೆಗಳಿಗೆ ಒಂದು ವಾಕ್ಯದಲ್ಲಿ ಉತ್ತರಿಸಿ.

1) ನೀತಿ ಸಂಹಿತೆ ಅವಧಿ ಎಂದರೇನು?

ಉತ್ತರ : _____

2) ಪಕ್ಷದ ಅಧಿಕೃತ ಪತ್ರ (Party ticket) ಎಂದರೇನು?

ಉತ್ತರ : _____

3) ಚುನಾವಣಾ ಪ್ರಣಾಳಿಕೆ (Election Manifesto) ಎಂದರೇನು?

ಉತ್ತರ : _____

4) ಭಾರತದಲ್ಲಿ ದಿನಪತ್ರಿಕೆಗಳ ಗುಣಮಟ್ಟ ಹೆಚ್ಚಿಸಲು ಮತ್ತು ಪತ್ರಿಕಾ ಸ್ವಾತಂತ್ರ್ಯ ರಕ್ಷಣೆಗಾಗಿ ಸ್ಥಾಪಿತವಾಗಿರುವ ಸಂಸ್ಥೆ ಯಾವುದು?

ಉತ್ತರ : _____

5) ಸಮಿಶ್ರ ಸರ್ಕಾರ ಎಂದರೇನು?

ಉತ್ತರ : _____

III. ಈ ಪದಗಳ ವಿಸ್ತರಣಾ ರೂಪವನ್ನು ಬರೆಯಿರಿ.

1) M.P : _____

2) E.P.I.C : _____

3) E.V.M : _____

IV. ಟಿಪ್ಪಣಿ ಬರೆಯಿರಿ.

1) ಸಾರ್ವಜನಿಕ ಅಭಿಪ್ರಾಯ

ಉತ್ತರ : _____

2) ಮಾಧ್ಯಮ ಮತ್ತು ಪ್ರಜಾಪ್ರಭುತ್ವ

ಉತ್ತರ : _____

V. ಈ ಕೆಳಗಿನ ಪ್ರಶ್ನೆಗಳಿಗೆ 3-4 ವಾಕ್ಯಗಳಲ್ಲಿ ಉತ್ತರಿಸಿ.

1) ಏಕ ಸರ್ಕಾರ ಮತ್ತು ಸಮಿಶ್ರ ಸರ್ಕಾರಗಳಿಗಿರುವ ವ್ಯತ್ಯಾಸಗಳನ್ನು ಬರೆಯಿರಿ.

ಉತ್ತರ: _____

ವಿದ್ಯಾರ್ಥಿಯ ಸ್ವಪೂಲ್ಯಮಾಪನ

ಕ್ರ.ಸಂ	ಕಲಿಕಾ ಸೂಚಕಗಳು	☺	☹	☹
1.	ಭಾರತದ ಚುನಾವಣಾ ಆಯೋಗದ ಬಗ್ಗೆ ತಿಳಿದಿರುವೆ			
2.	ಚುನಾವಣಾ ಪ್ರಕ್ರಿಯೆ ಬಗ್ಗೆ ತಿಳಿದಿರುವೆ			
3.	ರಾಜಕೀಯ ಪಕ್ಷಗಳ ಬಗ್ಗೆ ತಿಳಿದಿರುವೆ			

ಶಿಕ್ಷಕರ ಅಭಿಪ್ರಾಯ.

ಅತ್ಯುತ್ತಮ		ಉತ್ತಮ		ಸಾಧಾರಣ	
-----------	--	-------	--	--------	--

ಸಾಮಾಜಿಕ ಬದಲಾವಣೆ

I. ಈ ಕೆಳಗಿನ ಹೇಳಿಕೆಗಳಿಗೆ ನಾಲ್ಕು ಪರ್ಯಾಯ ಉತ್ತರಗಳನ್ನು ನೀಡಿದ್ದು, ಸರಿಯಾದ ಉತ್ತರವನ್ನು ಆಯ್ಕೆ ಮಾಡಿ ಬರೆಯಿರಿ.

1) ಕಾನೂನಿನ ಮುಂದೆ ಎಲ್ಲರೂ ಸಮಾನರು ಎಂಬುದನ್ನು ಸಂವಿಧಾನದ _____ ನೇ ಕಾಲಂ ಸೂಚಿಸುತ್ತದೆ.

- ಎ) 14 ಬಿ) 16 ಸಿ) 15 ಡಿ) 18

ಉತ್ತರ : _____

2) ಪರಸ್ಪರ ಮಾತುಕತೆಯ ಮೂಲಕ ಒಪ್ಪಂದಕ್ಕೆ _____ ಎಂದು ಕರೆಯುತ್ತೇವೆ.

- ಎ) ಸಂಘರ್ಷ ಬಿ) ಸಹಕಾರ ಸಿ) ಸಹಜೀವನ ಡಿ) ಹೊಂದಾಣಿಕೆ

ಉತ್ತರ : _____

3) ಪ್ರತ್ಯಕ್ಷ ಸಹಕಾರಕ್ಕೆ ಉದಾಹರಣೆ

- ಎ) ಒಂದು ಮಗು ಸ್ನೇಹಿತರೊಂದಿಗೆ ಕಲಿಯುವುದು
 ಬಿ) ಒಂದು ಮಗು ಪೋಷಕರೊಂದಿಗೆ
 ಸಿ) ಒಂದು ಮಗು ಶಾಲೆಯಲ್ಲಿ ಶಿಕ್ಷಕರೊಂದಿಗೆ ಕಲಿಯುವುದು
 ಡಿ) ಒಂದು ಮಗು ಶಾಲೆಯನ್ನು ಸ್ವಚ್ಛಗೊಳಿಸುವಾಗ ಕಲಿಯುವುದು

ಉತ್ತರ : _____

II. ಈ ಕೆಳಗಿನ ಪ್ರಶ್ನೆಗಳಿಗೆ ಒಂದು ವಾಕ್ಯದಲ್ಲಿ ಉತ್ತರಿಸಿ.

1) “ಹೊಂದಾಣಿಕೆ” ಎಂದರೇನು?

ಉತ್ತರ : _____

2) ಸಹಕಾರದಲ್ಲಿ ಎಷ್ಟು ವಿಧ? ಅವು ಯಾವುವು?

ಉತ್ತರ : _____

3) ಪರೋಕ್ಷ ಸಹಕಾರಕ್ಕೆ ಒಂದು ಉದಾಹರಣೆ ಕೊಡಿ.

ಉತ್ತರ : _____

III. ಗುಂಪಿಗೆ ಸೇರದ ಪದವನ್ನು ಆಯ್ದು ಬರೆಯಿರಿ.

1) ಹೊಂದಾಣಿಕೆ, ಸಹಕಾರ, ಪಕ್ಷಪಾತ, ಸಹಜೀವನ.

ಉತ್ತರ: _____

2) ಮಹಿಳಾ ಹಕ್ಕು, ಶೋಷಣೆ ಹಕ್ಕು, ದಲಿತರ ಹಕ್ಕು, ನಾಗರಿಕ ಹಕ್ಕು.

ಉತ್ತರ: _____

3) ಹೋರಾಟ, ಚಳುವಳಿ, ಚರ್ಚೆ, ಸ್ಪರ್ಧೆ.

ಉತ್ತರ: _____

4) ಕೋಮುಗಲಭೆ, ಭೂಕಂಪ, ಪ್ರವಾಹ, ಬರಗಾಲ.

ಉತ್ತರ: _____

IV. ಈ ಕೆಳಗಿನ ಪ್ರಶ್ನೆಗಳಿಗೆ 3-4 ವಾಕ್ಯಗಳಲ್ಲಿ ಉತ್ತರಿಸಿ.

1) ಸಾಮಾಜಿಕ ಪ್ರಕ್ರಿಯೆಗಳ ಪ್ರಕಾರಗಳನ್ನು ತಿಳಿಸಿ.

ಉತ್ತರ : _____

2) ಸಾಮಾಜಿಕ ಬದಲಾವಣೆಯ ಲಕ್ಷಣಗಳನ್ನು ತಿಳಿಸಿ.

ಉತ್ತರ : _____

3) ಸಹ ಜೀವನ ಸಮಾಜದ ಉಳಿವಿಗೆ ಹೇಗೆ ಸಹಾಯವಾಗಿದೆ?

ಉತ್ತರ : _____

V. ಟಿಪ್ಪಣಿ ಬರೆಯಿರಿ.

1) ಸಹ ಜೀವನ

ಉತ್ತರ : _____

2) ಹೊಂದಾಣಿಕೆ

ಉತ್ತರ : _____

ವಿದ್ಯಾರ್ಥಿಯ ಸ್ವಮೌಲ್ಯಮಾಪನ

ಕ್ರ.ಸಂ	ಕಲಿಕಾ ಸೂಚಕಗಳು	😊	😐	☹️
1.	ಶಾಲೆ ಮತ್ತು ಸ್ನೇಹಿತರೊಂದಿಗೆ ಹೊಂದಾಣಿಕೆ ಗುಣ			
2.	ಇತರರಿಗೆ ತೋರುವ ಸಹಕಾರ ಮನೋಭಾವನೆ			
3.	ಸಾಮಾಜಿಕ ಪ್ರಕ್ರಿಯೆಗಳಲ್ಲಿ ಪಾಲ್ಗೊಳ್ಳುವಿಕೆ			

ಶಿಕ್ಷಕರ ಅಭಿಪ್ರಾಯ.

ಅತ್ಯುತ್ತಮ		ಉತ್ತಮ		ಸಾಧಾರಣ	
-----------	--	-------	--	--------	--

ಕರ್ನಾಟಕದ ಖನಿಜ ಸಂಪನ್ಮೂಲಗಳು

I. ಕೆಳಗೆ ನೀಡಿರುವ ಕೋಷ್ಟಕವನ್ನು ನೋಡಿ ಅರ್ಥೈಸಿಕೊಂಡು ಸೂಚನೆಗಳಿಗನುಸಾರವಾಗಿ ಮಾಹಿತಿಯನ್ನು ತುಂಬಿ.

ಖನಿಜ	ಉಪಯೋಗ	ಹಂಚಿಕೆಯ ಸ್ಥಳಗಳು	
		ದೊರೆಯುವ ಜಿಲ್ಲೆ	ದೊರೆಯುವ ಸ್ಥಳಗಳು

II. ಗುಂಪಿಗೆ ಸೇರದ ಪದವನ್ನು ಆರಿಸಿ ಬರೆಯಿರಿ.

1) ಸಂಡೂರು, ಕೆಮ್ಮಣ್ಣುಗುಂಡಿ, ಕುಂಸಿ, ಬೆಳ್ಳಾರ

ಉತ್ತರ : _____

2) ಹಟ್ಟಿ, ನಂದಿದುರ್ಗ, ಉರಿಗಾಂ, ಚಾಂಫಿಯನ್ ರೀಫ್

ಉತ್ತರ : _____

3) ಬೆಳಗಾವಿ, ಉಡುಪಿ, ದಕ್ಷಿಣ ಕನ್ನಡ, ಬಳ್ಳಾರಿ

ಉತ್ತರ : _____

III. ಕೆಳಗಿನ ಪ್ರಶ್ನೆಗಳಿಗೆ ಒಂದು ವಾಕ್ಯದಲ್ಲಿ ಉತ್ತರಿಸಿ.

1) ಮ್ಯಾಂಗನೀಸ್‌ನ್ನು ಬಹು ಉಪಯೋಗಿ ಖನಿಜ ಎನ್ನುವರು. ಏಕೆ?

ಉತ್ತರ : _____

2) ಕುದುರೆ ಮುಖದಲ್ಲಿ ಗಣಿಗಾರಿಕೆ ಸ್ಥಗಿತಗೊಳಿಸಲಾಗಿದೆ. ಏಕೆ?

ಉತ್ತರ : _____

3) ಕೋಲಾರದಲ್ಲಿ ಚಿನ್ನದ ಗಣಿಗಾರಿಕೆ ಸ್ಥಗಿತಗೊಂಡಿದೆ. ಏಕೆ?

ಉತ್ತರ : _____

4) ಕರ್ನಾಟಕದಲ್ಲಿ ಕೊರೆಕ್ಸ್ ತಂತ್ರಜ್ಞಾನ ಆಧಾರಿತದಿಂದ ಸ್ಥಾಪನೆಯಾದ ಕಬ್ಬಿಣ ಮತ್ತು ಉಕ್ಕು ಕಾರ್ಖಾನೆ ಎಲ್ಲಿದೆ?

ಉತ್ತರ : _____

5) ಜವಳಿ ಉದ್ಯಮವನ್ನು ಸುಧಾರಿಸಲು ಸರ್ಕಾರ ಜಾರಿಗೆ ತಂದಿರುವ ಯೋಜನೆ ಯಾವುದು?

ಉತ್ತರ : _____

IV. ಈ ಕೆಳಗಿನ ಪ್ರಶ್ನೆಗಳಿಗೆ ಎರಡು-ಮೂರು ವಾಕ್ಯಗಳಲ್ಲಿ ಉತ್ತರಿಸಿ.

1) ಬಾಕ್ಸೈಟ್ ಅದರಿನ ಉಪಯೋಗಗಳೇನು?

ಉತ್ತರ: _____

2) ಇತ್ತೀಚಿನ ದಿನಗಳಲ್ಲಿ ಚಿನ್ನದ ಬೆಲೆ ಮತ್ತು ಬೇಡಿಕೆ ಹೆಚ್ಚಾಗುತ್ತಿದೆ. ಕಾರಣ ತಿಳಿಸಿ.

ಉತ್ತರ: _____

3) ಕರ್ನಾಟಕದಲ್ಲಿ ಇರುವ ಪ್ರಮುಖ ಕೈಗಾರಿಕಾ ವಲಯಗಳನ್ನು ತಿಳಿಸಿರಿ.

ಉತ್ತರ: _____

V. ಕೊಟ್ಟಿರುವ ಕರ್ನಾಟಕದ ಭೂಪಟದಲ್ಲಿ ಖನಿಜಗಳ ಹಂಚಿಕೆಯನ್ನು ಸೂಚನೆಗೆ ಅನುಸಾರವಾಗಿ ಗುರುತಿಸಿ

(ಕಬ್ಬಿಣದ ಅದಿರು, ಮ್ಯಾಂಗನೀಸ್, ಬಾಕ್ಸೈಟ್, ಚಿನ್ನ) ಈ ಖನಿಜಗಳು ದೊರೆಯುವ ಸ್ಥಳಗಳನ್ನು ಗುರುತಿಸಿ.



ವಿದ್ಯಾರ್ಥಿಯ ಸ್ವಮೌಲ್ಯಮಾಪನ

ಕ್ರ.ಸಂ	ಕಲಿಕಾ ಸೂಚಕಗಳು	😊	☹️	😞
1.	ಕರ್ನಾಟಕದಲ್ಲಿ ದೊರೆಯುವ ಖನಿಜಗಳನ್ನು ತಿಳಿದಿರುವೆನು			
2.	ಕರ್ನಾಟಕದಲ್ಲಿ ದೊರೆಯುವ ಖನಿಜಗಳ ಪ್ರಾಮುಖ್ಯತೆಯನ್ನು ತಿಳಿದಿರುವೆನು			
3.	ಕರ್ನಾಟಕದಲ್ಲಿ ದೊರೆಯುವ ಖನಿಜಗಳ ಹಂಚಿಕೆ ಮತ್ತು ಉತ್ಪಾದನೆಯನ್ನು ತಿಳಿದಿರುವೆನು			

ಶಿಕ್ಷಕರ ಅಭಿಪ್ರಾಯ.

ಅತ್ಯುತ್ತಮ		ಉತ್ತಮ		ಸಾಧಾರಣ	
-----------	--	-------	--	--------	--

I. ಮೊದಲ ಎರಡು ಪದಗಳ ಸಂಬಂಧವನ್ನು ಗುರ್ತಿಸಿ ಮೂರನೇ ಪದಕ್ಕೆ ಸಂಬಂಧಿಸಿದ ನಾಲ್ಕನೇ ಪದವನ್ನು ಬರೆಯಿರಿ.

- 1) ಬೈಸಿಕಲ್ : ರಸ್ತೆ ಸಾರಿಗೆ : ಹೆಲಿಕಾಪ್ಟರ್ : _____
- 2) ಮಂಗಳೂರು : ಕರ್ನಾಟಕದ ಹೆಬ್ಬಾಗಿಲು :: ಕೆಂಪೇಗೌಡ ವಿಮಾನ ನಿಲ್ದಾಣ : _____
- 3) NH-4 ಮತ್ತು NH-7 : ಸುವರ್ಣ ಚತುಷ್ಕೋನ ಹೆದ್ದಾರಿ ಯೋಜನೆ
:: ಬೆಂಗಳೂರು ನಗರ ರೈಲ್ವೆ ಸಾರಿಗೆ : _____

II. ಈ ಕೆಳಗಿನ ಪ್ರಶ್ನೆಗಳಿಗೆ ಒಂದು ವಾಕ್ಯದಲ್ಲಿ ಉತ್ತರಿಸಿ.

- 1) ಭಾರತದ ಮೊದಲ ಹಸಿರು ಕ್ಷೇತ್ರದ ವಿಮಾನ ನಿಲ್ದಾಣ ಯಾವುದು?

ಉತ್ತರ : _____

- 2) ಸಾರಿಗೆ ಎಂದರೇನು?

ಉತ್ತರ : _____

- 3) ರಾಷ್ಟ್ರೀಯ ಹೆದ್ದಾರಿಗಳ ನಿರ್ಮಾಣ ಮತ್ತು ನಿರ್ವಹಣೆ ಜವಾಬ್ದಾರಿ ಯಾರಿಗೆ ಸೇರಿರುತ್ತದೆ?

ಉತ್ತರ : _____

III. ಕೆಳಗಿನ ಪ್ರಶ್ನೆಗಳಿಗೆ ಎರಡು-ಮೂರು ವಾಕ್ಯಗಳಲ್ಲಿ ಉತ್ತರಿಸಿ.

- 1) ರಸ್ತೆ ಸಾರಿಗೆಯ ಪ್ರಾಮುಖ್ಯತೆಯನ್ನು ತಿಳಿಸಿ.

ಉತ್ತರ : _____

2) ಕೊಂಕಣ ರೈಲ್ವೆಯ ಮಾರ್ಗವನ್ನು ತಿಳಿಸಿ.

ಉತ್ತರ : _____

IV. ಕೆಳಗಿನ ಪ್ರಶ್ನೆಗಳಿಗೆ 5-6 ವಾಕ್ಯಗಳಲ್ಲಿ ಉತ್ತರಿಸಿ.

1) ರಸ್ತೆ ಸಾರಿಗೆಯ ಬೆಳವಣಿಗೆಯನ್ನು ತಿಳಿಸಿ.

ಉತ್ತರ : _____

2) ಕರ್ನಾಟಕದಲ್ಲಿ ವಾಯುಸಾರಿಗೆಯ ಬೆಳವಣಿಗೆಯನ್ನು ತಿಳಿಸಿ.

ಉತ್ತರ : _____

V. ಕೆಲಗಿನ ಪ್ರಶ್ನೆಗೆ 5-6 ವಾಕ್ಯಗಳಲ್ಲಿ ಉತ್ತರಿಸಿ :

- 1) ರಸ್ತೆಯ ವಿಧಗಳನ್ನು ಕುರಿತು ವಿವರಿಸಿ.

ಉತ್ತರ : _____

VI. ಟಿಪ್ಪಣಿ ಬರೆಯಿರಿ.

- 1) ನಮ್ಮ ಮೆಟ್ರೋ

ಉತ್ತರ : _____

- 2) ರೈಲು ಸಾರಿಗೆ

ಉತ್ತರ : _____

VII. ಕರ್ನಾಟಕ ರಾಜ್ಯದ ನಕ್ಷೆಯನ್ನು ರಚಿಸಿ ಈ ಕೆಳಗಿನ ಸ್ಥಳಗಳನ್ನು ಗುರುತಿಸಿ.

(ಮಲ್ಲೆ, ನವಮಂಗಳೂರು, ಕಾರವಾರ, ದೇವನಹಳ್ಳಿ, ಬೆಂಗಳೂರು, ಕುದುರೆಮುಖ)

ವಿದ್ಯಾರ್ಥಿಯ ಸ್ವಮೌಲ್ಯಮಾಪನ

ಕ್ರ.ಸಂ	ಕಲಿಕಾ ಸೂಚಕಗಳು	😊	😐	😞
1.	ಕರ್ನಾಟಕದ ಸಾರಿಗೆಯ ಮಹತ್ವ ತಿಳಿದಿರುವೆನು			
2.	ರಸ್ತೆ ಸಾರಿಗೆಯ ವಿಧಗಳು , ಪ್ರಮುಖ ಹೆದ್ದಾರಿಗಳನ್ನು ತಿಳಿದಿರುವೆನು			
3.	ಜಲಸಾರಿಗೆ ಮತ್ತು ವಾಯು ಸಾರಿಗೆ ಬಗ್ಗೆ ತಿಳಿದಿರುವೆನು			

ಶಿಕ್ಷಕರ ಅಭಿಪ್ರಾಯ.

ಅತ್ಯುತ್ತಮ		ಉತ್ತಮ		ಸಾಧಾರಣ	
-----------	--	-------	--	--------	--

ಕರ್ನಾಟಕದ ಕೈಗಾರಿಕೆಗಳು

I. ಖಾಲಿ ಬಿಟ್ಟ ಸ್ಥಳಗಳನ್ನು ಸೂಕ್ತ ಪದಗಳಿಂದ ತುಂಬಿ.

- 1) 'ಕೈಗಾರಿಕರಣ ಇಲ್ಲವೇ ವಿನಾಶ' ಎಂದು ಹೇಳಿದವರು _____
- 2) ಬಳ್ಳಾರಿ ಜಿಲ್ಲೆಯ ತೋರಣಗಲ್ ಕೈಗಾರಿಕೆಯಲ್ಲಿ _____ ತಂತ್ರಜ್ಞಾನ ಬಳಸಲಾಗಿದೆ.
- 3) ಮಾಹಿತಿ ತಂತ್ರಜ್ಞಾನದಲ್ಲಿ _____ ರಾಜ್ಯ ಮೊದಲ ಸ್ಥಾನದಲ್ಲಿದೆ
- 4) ಕರ್ನಾಟಕದ ಅತೀ ಮುಖ್ಯ ಹತ್ತಿ ಬಟ್ಟೆ ಕೈಗಾರಿಕಾ ಕೇಂದ್ರ _____

II. ಮೊದಲೆರಡು ಪದಗಳಂತೆ ಮೂರನೇ ಪದಕ್ಕೆ ಸಂಬಂಧಿಸಿದಂತೆ ನಾಲ್ಕನೇ ಪದ ಜೋಡಿಸಿ ಬರೆಯಿರಿ.

- 1) ವಿಪ್ರೋ : ಬೆಂಗಳೂರು :: VISL : _____
- 2) ಗದಗ್ : ಹತ್ತಿ ಬಟ್ಟೆ :: ಬೆಳಗಾವಿ : _____
- 3) ರಸ್ತೆ ನಿರ್ಮಾಣ : ಸಿಮೆಂಟ್ ಕೈಗಾರಿಕೆ :: ಕಂಪ್ಯೂಟರ್ : _____

III. ಕೆಳಗಿನ ಪದಬಂಧವನ್ನು ಸರಿಯಾದ ಪದಗಳಿಂದ ತುಂಬಿ.

ಮೇಲಿನಿಂದ ಕೆಳಕೆ :

- 2) ಬರವಣಿಗೆಗೆ ಇದು ಅವಶ್ಯಕ ತಿರುಗಿದೆ (3)
- 4) ಮೈಸೂರು ಪೇಪರ್ ಮಿಲ್ ಲಿಮಿಟೆಡ್ ಇಲ್ಲಿದೆ (4)
- 5) ಮಾಹಿತಿ ತಂತ್ರ ಕೈಗಾರಿಕೆಯಲ್ಲಿ ಈ ಖನಿಜ ಬೇಕು (3)

ಎಡದಿಂದ ಬಲಕ್ಕೆ :

- 1) ಹತ್ತಿ ಬಟ್ಟೆ ಕೈಗಾರಿಕೆ ಇರುವ ಉತ್ತರ ಕರ್ನಾಟಕದ ನಗರವಿದು (4)
- 3) ದಾಂಡೇಲಿ ಕೈಗಾರಿಕೆಗೆ ಈ ನದಿ ನೀರು ಬೇಕು (2) ತಿರುಗಿದೆ
- 6) ಉದ್ಯೋಗಕ್ಕೆ ಆಯ್ಕೆ ಮಾಡುವ ವಿಧಾನ (4)

1			2		
			3		4
5					
		6			

IV. ಕೆಳಗಿನ ಪ್ರಶ್ನೆಗಳಿಗೆ 2-3 ವಾಕ್ಯಗಳಲ್ಲಿ ಉತ್ತರಿಸಿ.

1) ಕರ್ನಾಟಕದಲ್ಲಿರುವ ಪ್ರಮುಖ ಸಿಮೆಂಟ್ ಕೈಗಾರಿಕೆಗಳಾವುವು?

ಉತ್ತರ : _____

2) ಮೊದಲ ಕಾಗದ ಕೈಗಾರಿಕೆಗಳು ಎಲ್ಲೆಲ್ಲಿ ಸ್ಥಾಪನೆಯಾದವು?

ಉತ್ತರ : _____

3) ಬೆಂಗಳೂರನ್ನು 'ಸಿಲಿಕಾನ್ ಕಣಿವೆ' ಎಂದು ಏಕೆ ಕರೆಯುತ್ತಾರೆ?

ಉತ್ತರ : _____

V. ಕೆಲಗಿನ ಪ್ರಶ್ನೆಗಳಿಗೆ 3-4 ವಾಕ್ಯಗಳಲ್ಲಿ ಉತ್ತರಿಸಿ.

1) ಕರ್ನಾಟಕದಲ್ಲಿ ಸಕ್ಕರೆ ಕೈಗಾರಿಕೆಗಳ ಹಂಚಿಕೆಯನ್ನು ತಿಳಿಸಿ.

ಉತ್ತರ : _____

2) ಬೆಂಗಳೂರು ಭಾರತದ ಪ್ರತಿಷ್ಠಿತ ಮಾಹಿತಿ ತಂತ್ರಜ್ಞಾನದ ಕೇಂದ್ರವಾಗಿ ಹೊರಹೊಮ್ಮಿದೆ, ಹೇಗೆ?

ಉತ್ತರ : _____

3) ಕರ್ನಾಟಕದ ಕೈಗಾರಿಕಾ ವಲಯಗಳನ್ನು ತಿಳಿಸಿ.

ಉತ್ತರ : _____

VI. 'ಅ' ಪಟ್ಟಿಯಲ್ಲಿ ಕೈಗಾರಿಕೆಗಳನ್ನು 'ಬ' ಪಟ್ಟಿಯಲ್ಲಿ ಅವುಗಳು ಸ್ಥಾಪನೆಯಾದ ವರ್ಷಗಳನ್ನು ನೀಡಲಾಗಿದ್ದು, ಅವುಗಳನ್ನು ಸರಿಯಾಗಿ ಹೊಂದಿಸಿ ಬರೆಯಿರಿ.

'ಅ' ಪಟ್ಟಿ	'ಬ' ಪಟ್ಟಿ	ಉತ್ತರಗಳು
1) ಕಬ್ಬಿಣ ಮತ್ತು ಉಕ್ಕಿನ ಕೈಗಾರಿಕೆ	1) 1936	_____
2) ಹತ್ತಿ ಬಟ್ಟೆ ಕೈಗಾರಿಕೆ	2) 1933	_____
3) ಸಕ್ಕರೆ ಕೈಗಾರಿಕೆ	3) 1884	_____
4) ಕಾಗದದ ಕೈಗಾರಿಕೆ	4) 1939	_____
5) ಸಿಮೆಂಟ್ ಕೈಗಾರಿಕೆ	5) 1923	_____

VII. ಈ ಕೆಳಗಿನ ಪ್ರಶ್ನೆಗೆ 5-6 ವಾಕ್ಯಗಳಲ್ಲಿ ಉತ್ತರಿಸಿ.

1) ಕರ್ನಾಟಕದಲ್ಲಿರುವ ಕೈಗಾರಿಕೆಗಳ ಮಹತ್ವ ಕುರಿತು ವಿವರಿಸಿ.

ಉತ್ತರ : _____

ವಿದ್ಯಾರ್ಥಿಯ ಸ್ವಮೌಲ್ಯಮಾಪನ

ಕ್ರ.ಸಂ	ಕಲಿಕಾ ಸೂಚಕಗಳು	☺	☹	☹
1.	ಸಕ್ಕರೆ ಕೈಗಾರಿಕೆಯ ಹಂಚಿಕೆಯನ್ನು ಅರಿತಿದ್ದೇನೆ			
2.	ಮಾಹಿತಿ ತಂತ್ರಜ್ಞಾನದ ಮಹತ್ವವನ್ನು ವಿವರಿಸಬಲ್ಲೆನು			
3.	ಕರ್ನಾಟಕದ ಕೈಗಾರಿಕೆಗಳ ಮಹತ್ವವನ್ನು ಅರ್ಥೈಸಬಲ್ಲೆನು			

ಶಿಕ್ಷಕರ ಅಭಿಪ್ರಾಯ.

ಅತ್ಯುತ್ತಮ		ಉತ್ತಮ		ಸಾಧಾರಣ	
-----------	--	-------	--	--------	--

ಬಡತನ ಮತ್ತು ಹಸಿವು

I. ಕೊಟ್ಟಿರುವ ಹೇಳಿಕೆಯ ಕೆಳಗೆ ನಾಲ್ಕು ಪರ್ಯಾಯ ಉತ್ತರಗಳನ್ನು ನೀಡಲಾಗಿದೆ. ಸರಿಯಾದುದನ್ನು ಆರಿಸಿ ಬರೆಯಿರಿ.

- 1) ಬಡತನದ ಮುಖ್ಯ ಲಕ್ಷಣ _____
 ಎ) ಹಸಿವು ಬಿ) ಸಿರಿವಂತಿಕೆ ಸಿ) ವಸತಿ ಡಿ) ಬಟ್ಟೆ
- 2) ಭಾರತೀಯ ಆಹಾರ ನಿಗಮ ಸ್ಥಾಪಿತವಾದ ವರ್ಷ _____
 ಎ) 1975 ಬಿ) 1989 ಸಿ) 1965 ಡಿ) 1969
- 3) ಈ ಯೋಜನೆಯ ಅಡಿಯಲ್ಲಿ ಗ್ರಾಮೀಣ ಬಡಜನರಿಗೆ ಶಿಕ್ಷಣ, ಆರೋಗ್ಯ ವಸತಿ, ಕುಡಿಯುವ ನೀರು, ವಿದ್ಯುದೀಕರಣ ಸೇವೆಗಳನ್ನು ನೀಡಲಾಗುತ್ತಿದೆ. _____
 ಎ) ಸಂದ್ಯಾ ಸುರಕ್ಷಾ ಯೋಜನೆ ಬಿ) ಪ್ರಧಾನಮಂತ್ರಿ ಗ್ರಾಮೋದಯ ಯೋಜನೆ
 ಸಿ) ನಿರ್ಮಲ ಗ್ರಾಮ ಯೋಜನೆ ಡಿ) ಸ್ವಚ್ಛ ಭಾರತ ಅಭಿಯಾನ ಯೋಜನೆ

II. ಈ ಕೆಳಗಿನ ಪ್ರಶ್ನೆಗಳಿಗೆ ಒಂದು ವಾಕ್ಯಗಳಲ್ಲಿ ಉತ್ತರಿಸಿ.

1) ಹಸಿವು ಎಂದರೇನು?

ಉತ್ತರ : _____

2) ಆಹಾರ ಭದ್ರತೆ ಎಂದರೇನು?

ಉತ್ತರ : _____

3) ಬಡತನ ರೇಖೆಯ ಕೆಳಗಿರುವವರು ಎಂದರೆ ಯಾರು?

ಉತ್ತರ : _____

4) ಕಾಪು ದಾಸ್ತಾನು ಎಂದರೇನು?

ಉತ್ತರ : _____

5) 'ವಿಶ್ವ ಹಸಿವಿನ ಸೂಚ್ಯಂಕ' ವನ್ನು ಏಕೆ ರೂಪಿಸಲಾಗಿದೆ ?

ಉತ್ತರ : _____

III. ಈ ಕೆಳಗಿನ ಪ್ರಶ್ನೆಗಳಿಗೆ ನಾಲ್ಕು ವಾಕ್ಯಗಳಲ್ಲಿ ಉತ್ತರಿಸಿ.

1) ಭಾರತದಲ್ಲಿ ಬಡತನಕ್ಕೆ ಕಾರಣಗಳನ್ನು ತಿಳಿಸಿ.

ಉತ್ತರ : _____

2) ವಿಶ್ವ ಹಸಿವಿನ ಸೂಚ್ಯಂಕವನ್ನು ಅಳೆಯುವ ಆಯಾಮಗಳನ್ನು ತಿಳಿಸಿ.

ಉತ್ತರ : _____

3) ಬಡತನ ನಿರ್ಮೂಲನೆಗೆ ಹಮ್ಮಿಕೊಂಡಿರುವ ಕಾರ್ಯಕ್ರಮಗಳಾವುವು?

ಉತ್ತರ : _____

IV. ಮೊದಲ ಎರಡು ಪದಗಳ ಸಂಬಂಧವನ್ನು ಗುರುತಿಸಿ ಮೂರನೇ ಪದಕ್ಕೆ ಸಂಬಂಧಿಸಿದಂತೆ ನಾಲ್ಕನೇ ಪದವನ್ನು ಬರೆಯಿರಿ.

1) ಯಶಸ್ವಿನಿ ಯೋಜನೆ : ಆರೋಗ್ಯ ವಿಮಾ ಸೌಲಭ್ಯ :: ಸ್ವಚ್ಛ ಭಾರತ ಅಭಿಯಾನ : _____

2) ಅನ್ನಭಾಗ್ಯ ಯೋಜನೆ : ಹಸಿವು ಮುಕ್ತ ಕರ್ನಾಟಕ :: M.G.N.R.E.G.S ಯೋಜನೆ : _____

3) ಮಹಾತ್ಮ ಗಾಂಧಿ ರಾಷ್ಟ್ರೀಯ ಉದ್ಯೋಗ ಖಾತ್ರಿ ಯೋಜನೆ : 2006 :: ಸ್ವರ್ಣ ಜಯಂತಿ ಶಹರಿ ರೋಜ್‌ಗಾರ್ ಯೋಜನೆ : _____

4) ಇಂದಿರಾ ಆವಾಸ್ ಯೋಜನೆ : ಮನೆ ನಿರ್ಮಾಣ :: ನಿರ್ಮಲ ಗ್ರಾಮ ಯೋಜನೆ : _____

V. ಟಿಪ್ಪಣಿ ಬರೆಯಿರಿ.

1) ಸಾರ್ವಜನಿಕ ವಿತರಣಾ ವ್ಯವಸ್ಥೆ.

ಉತ್ತರ : _____

2) ಸರ್ಕಾರದ ಸ್ವ-ಉದ್ಯೋಗದ ಕಾರ್ಯಕ್ರಮಗಳು.

ಉತ್ತರ : _____

ವಿದ್ಯಾರ್ಥಿಯ ಸ್ವಪೌಲ್ಯಮಾಪನ

ಕ್ರ.ಸಂ	ಕಲಿಕಾ ಸೂಚಕಗಳು	☺	☹	☹
1.	ಬಡತನದ ಬಗ್ಗೆ ಅರ್ಥೈಸಿಕೊಂಡಿದ್ದೇನೆ			
2.	ಹಸಿವು ಮತ್ತು ಆಹಾರ ಭದ್ರತೆ ಬಗ್ಗೆ ಅರಿತಿದ್ದೇನೆ			
3.	ಬಡತನ ನಿರ್ಮೂಲನಾ ಕಾರ್ಯಕ್ರಮಗಳನ್ನು ವಿವರಿಸಬಲ್ಲೆ			

ಶಿಕ್ಷಕರ ಅಭಿಪ್ರಾಯ.

ಅತ್ಯುತ್ತಮ		ಉತ್ತಮ		ಸಾಧಾರಣ	
-----------	--	-------	--	--------	--

I. ಈ ಕೆಳಗಿನ ಪ್ರಶ್ನೆಗಳಿಗೆ ನಾಲ್ಕು ಪರ್ಯಾಯ ಉತ್ತರಗಳನ್ನು ನೀಡಿದ್ದು, ಸರಿಯಾದ ಉತ್ತರವನ್ನು ಆಯ್ಕೆ ಮಾಡಿ ಕೊಷ್ಟಕದಲ್ಲಿ ಶೇಡ್ ಮಾಡಿ.

1) ಪ್ರಪಂಚದ ಮೊದಲ ಷೇರು ಮಾರುಕಟ್ಟೆ ಸ್ಥಾಪನೆಯಾದ ನಗರ.

ಎ) ಮುಂಬೈ ಬಿ) ಲಂಡನ್ ಸಿ) ನ್ಯೂಯಾರ್ಕ್ ಡಿ) ಬರ್ಲಿನ್

2) ಭಾರತದಲ್ಲಿ ಷೇರುಗಳ ವಹಿವಾಟಿನ ಮೇಲ್ವಿಚಾರಣೆ ನಡೆಸಲು ಸ್ಥಾಪಿತವಾಗಿರುವ ಸಂಸ್ಥೆ.

ಎ) ಭಾರತೀಯ ಕೈಗಾರಿಕಾ ಹಣಕಾಸು ನಿಗಮ ಬಿ) ರಾಜ್ಯ ಹಣಕಾಸು ನಿಗಮ

ಸಿ) ಯೂನೀಟ್ ಟ್ರಸ್ಟ್ ಆಫ್ ಇಂಡಿಯಾ ಡಿ) ರಾಷ್ಟ್ರೀಯ ಷೇರು ವಿನಿಮಯ ಕೇಂದ್ರ

3) ಆಯಾತ-ನಿಯಾತ ಬ್ಯಾಂಕ್ ಸ್ಥಾಪನೆಯಾದ ವರ್ಷ.

ಎ) 1976 ಬಿ) 1982 ಸಿ) 1964 ಡಿ) 1948

4) ರಾಕೇಶ್ ಎಂಬ ಉದ್ಯಮಿಯು ತನ್ನ ವ್ಯವಹಾರದ ನಿರ್ವಹಣೆಗೆ ಜರೂರಾಗಿ ಸಾಲ ಪಡೆಯಬೇಕಾಗಿದೆ. ಯಾವ ಅಲ್ಪಾವಧಿ ಹಣಕಾಸಿನ ಮೂಲದಿಂದ ಸಾಲ ಪಡೆಯಬಹುದು.

ಎ) ವ್ಯಾಪಾರ ಸಾಲ ಬಿ) ಗ್ರಾಹಕ ಸಾಲ

ಸಿ) ಸ್ಥಳೀಯ ಲೇವಾದೇವಿಗಾರರಿಂದ ಡಿ) ಅಲ್ಪಾವಧಿ ಸಾರ್ವಜನಿಕ ಠೇವಣಿ

ಉತ್ತರ :

ಪ್ರ.ಸಂ.	ಎ	ಬಿ	ಸಿ	ಡಿ
1	O	O	O	O
2	O	O	O	O
3	O	O	O	O
4	O	O	O	O

ಸೂಚನೆ : ಸರಿಯಾದ ಉತ್ತರವನ್ನು ಆರಿಸಿ ● ಈ ರೀತಿ ಬಣ್ಣ ತುಂಬಿರಿ

II. ಈ ಕೆಳಗಿನ ಪ್ರಶ್ನೆಗಳಿಗೆ ಒಂದು ವಾಕ್ಯದಲ್ಲಿ ಉತ್ತರಿಸಿ.

1) ಅಲ್ಪಾವಧಿ ಹಣಕಾಸು ಎಂದರೇನು?

ಉತ್ತರ : _____

2) ಸಾಲ ಪತ್ರಗಳಿಂದ ಹಣಕಾಸಿನ ಸಂಗ್ರಹಣೆ ಹೇಗೆ ಸಾಧ್ಯ?

ಉತ್ತರ : _____

3) ಅಂತರರಾಷ್ಟ್ರೀಯ ಪ್ರಮುಖ ಹಣಕಾಸಿನ ಮೂಲಗಳನ್ನು ತಿಳಿಸಿ.

ಉತ್ತರ : _____

4) ವ್ಯಾಪಾರ ಸಾಲ ಎಂದರೇನು?

ಉತ್ತರ : _____

5) ಹಣಕಾಸಿನ ನಿರ್ವಹಣೆಯಲ್ಲಿ ಸಾಹಸ ಬಂಡವಾಳದ ಅವಶ್ಯಕತೆಯೇನು?

ಉತ್ತರ : _____

III. ಈ ಪದಗಳ ಅರ್ಥವನ್ನು ಸಂಕ್ಷಿಪ್ತವಾಗಿ ಬರೆಯಿರಿ.

1) ಷೇರು ಮಾರುಕಟ್ಟೆ : _____

2) ಡಿಮ್ಯಾಂಡ್ ಖಾತೆ : _____

3) ಅನೋನ್ಯ ನಿಧಿಗಳು : _____

4) ಗ್ರಾಹಕ ಮುಂಗಡ : _____

5) ಲೇವಾದೇವಿಗಾರರು : _____

IV. ಈ ಕೆಳಗಿನ ಪದಗಳನ್ನು ವಿಸ್ತರಿಸಿ ಬರೆಯಿರಿ.

1) NSE : _____

2) IDBI : _____

3) EXIM BANK : _____

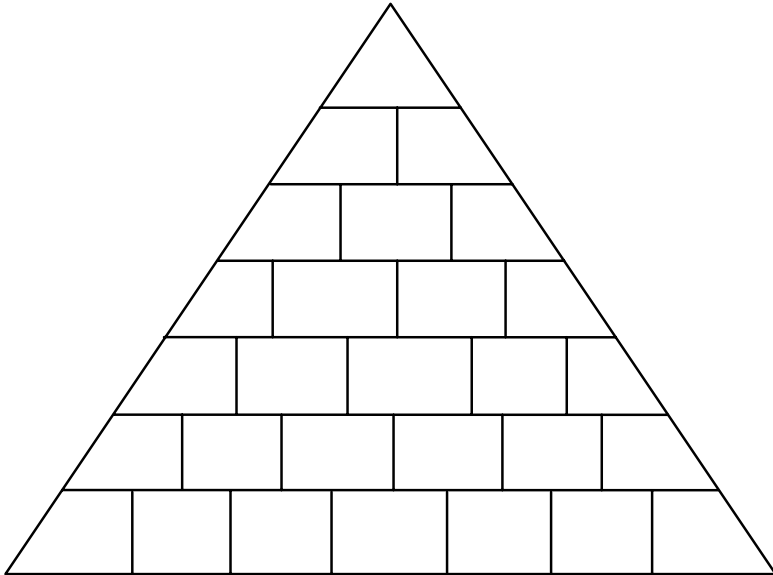
4) ICICI : _____

5) SFCs : _____

6) IFCI : _____

7) UTI : _____

V. ಈ ಕೆಳಗಿನ ಪಿರಮಿಡ್ಡನ್ನು ಪೂರ್ಣಗೊಳಿಸಿ.



- 1) ವ್ಯವಹಾರ ಸಂಸ್ಥೆಗಳು ತಾವು ಪಡೆದ ಹಣವನ್ನು ಹಿಂದಿರುಗಿಸಲು ಎಷ್ಟು ಅವಧಿಯ ಹಣಕಾಸು ಬೇಕಾಗುತ್ತದೆ. (1)
- 2) ದೀರ್ಘಾವಧಿ ಹಣಕಾಸು ಸಾಲವು ಯಾವ ಬಂಡವಾಳದ ಕೆಲಸಗಳನ್ನು ಮಾಡಲು ಬೇಕಾಗುತ್ತದೆ (2)
- 3) ಷೇರುದಾರ ಹೊಂದಿರಬೇಕಾದ ಫಿಶೇಷ ಖಾತೆ (3)
- 4) ಅಲ್ಪಾವಧಿಯ ಹಣಕಾಸನ್ನು ಈ ಕಾರ್ಯ ವಹಿವಾಟುಗಳಿಗೆ ಬಳಸಲಾಗುತ್ತದೆ (4)
- 5) ವ್ಯವಹಾರ ಸಂಸ್ಥೆಗಳಿಗೆ ಬ್ಯಾಂಕುಗಳು ಇವುಗಳ ಮೂಲಕ ಹಣವನ್ನು ಒದಗಿಸುತ್ತವೆ (5)
- 6) ಆಮದು-ರಫ್ತು ಸಂಸ್ಥೆಗಳಿಗೆ ಹಣಕಾಸು ಒದಗಿಸುವ ಬ್ಯಾಂಕು (6)
- 7) ಇದು ಹಣಕಾಸಿನ ಮಾರುಕಟ್ಟೆಯ ಒಂದು ವಿಧವಾದ ಅನ್ಯೋನ್ಯ ನಿಧಿಗಳಿಗೆ ಉದಾಹರಣೆ (7)

VI. ಈ ಕೆಳಗಿನ ಪ್ರತಿಯೊಂದು ಪ್ರಶ್ನೆಗೂ ಮೂರು ಅಥವಾ ನಾಲ್ಕು ವಾಕ್ಯಗಳಲ್ಲಿ ಉತ್ತರಿಸಿ.

- 1) ದೀರ್ಘಾವಧಿಯ ಹಣಕಾಸಿನ ಮೂಲಗಳು ಯಾವುವು ?

ಉತ್ತರ : _____

- 2) ಅಲ್ಪಾವಧಿ ಹಣಕಾಸು ದೀರ್ಘಾವಧಿ ಹಣಕಾಸಿಗಿಂತ ಹೇಗೆ ಭಿನ್ನವಾಗಿದೆ.

ಉತ್ತರ : _____

- 3) ವ್ಯವಹಾರ ಸಂಸ್ಥೆಗಳಿಗೆ ಹಣಕಾಸನ್ನು ಪೂರೈಸುವ ಸಂಸ್ಥೆಗಳನ್ನು ಪಟ್ಟಿ ಮಾಡಿ.

ಉತ್ತರ : _____

4) ಅಲ್ಪಾವಧಿ ಹಣಕಾಸಿನ ಮೂಲಗಳನ್ನು ತಿಳಿಸಿ.

ಉತ್ತರ : _____

VII. ಟಿಪ್ಪಣಿ ಬರೆಯಿರಿ.

1) ಹಣದ ಮಾರುಕಟ್ಟೆ

2) ಭಾರತೀಯ ಕೈಗಾರಿಕಾ ಹಣಕಾಸು ನಿಗಮ

ವಿದ್ಯಾರ್ಥಿಯ ಸ್ವಮೌಲ್ಯಮಾಪನ

ಕ್ರ.ಸಂ	ಕಲಿಕಾ ಸೂಚಕಗಳು	😊	😐	☹️
1.	ವ್ಯವಹಾರ ಸಂಸ್ಥೆಗಳಿಗೆ ಹಣಕಾಸಿನ ಪೂರೈಕೆಯ ಬಗ್ಗೆ ತಿಳಿದಿರುವೆ			
2.	ವ್ಯವಹಾರ ಸಂಸ್ಥೆಗಳಿಗೆ ಹಣಕಾಸಿನ ಪೂರೈಕೆಯ ಸಂಸ್ಥೆಗಳ ಬಗ್ಗೆ ತಿಳಿದಿರುವೆ			
3.	ಷೇರು ಮಾರುಕಟ್ಟೆಯ ಬಗ್ಗೆ ತಿಳಿದಿರುವೆ			

ಶಿಕ್ಷಕರ ಅಭಿಪ್ರಾಯ.

ಅತ್ಯುತ್ತಮ		ಉತ್ತಮ		ಸಾಧಾರಣ	
-----------	--	-------	--	--------	--

I. ಕೆಳಗೆ ಕೊಟ್ಟಿರುವ ಪ್ರಶ್ನೆಗಳಿಗೆ ಸರಿಯಾದ ಉತ್ತರವನ್ನು ಆರಿಸಿ ಸೂಕ್ತ ಕ್ರಮಾಂಕದೊಂದಿಗೆ ಉತ್ತರಿಸಿ.

1) ಭಾರತದ ಅತಿದೊಡ್ಡ 'ಹಟ್ಟಿಚಿನ್ನದ ಗಣಿ' ಇರುವುದು ಈ ಜಿಲ್ಲೆಯಲ್ಲಿ.

- ಅ) ರಾಮನಗರ ಬ) ಸಂಡೂರ ಕ) ಕೋಲಾರ ಡ) ರಾಯಚೂರು.

ಉತ್ತರ : _____

2) ಪ್ರಸ್ತುತ ಜಾರಿಯಲ್ಲಿರುವ ಅತ್ಯಂತ ಮಹತ್ವಾಕಾಂಕ್ಷಿ ಕೂಲಿ ಉದ್ಯೋಗ ಕಾರ್ಯಕ್ರಮವಿದು.

- ಅ) ಕೂಲಿಗಾಗಿ ಕಾಳು ಬ) ಉದ್ಯೋಗ ಖಾತ್ರಿ
ಕ) ರೈತಮಿತ ಡ) ಅಂತೋದಯ

ಉತ್ತರ : _____

II. ಕೆಳಗೆ ಕೊಟ್ಟಿರುವ ಪ್ರಶ್ನೆಗಳಿಗೆ ಒಂದು ಪದ ಅಥವಾ ಒಂದು ವಾಕ್ಯದಲ್ಲಿ ಉತ್ತರಿಸಿ.

1) ಸಂತ ಶಿಶುನಾಳ ಶರೀಫರ ತಂದೆ,ತಾಯಿಯರ ಹೆಸರೇನು?

ಉತ್ತರ : _____

2) ರಾಷ್ಟ್ರದ ಅತ್ಯುನ್ನತ ನ್ಯಾಯಾಲಯ ಯಾವುದು?

ಉತ್ತರ : _____

III. ಕೆಳಗೆ ಕೊಟ್ಟಿರುವ ಪ್ರಶ್ನೆಗಳಿಗೆ ಎರಡು ಅಥವಾ ಮೂರು ವಾಕ್ಯದಲ್ಲಿ ಉತ್ತರಿಸಿ.

1) ಭಕ್ತಿ ಚಳುವಳಿಯ ಪರಿಣಾಮಗಳನ್ನು ತಿಳಿಸಿ?

ಉತ್ತರ : _____

2) ಸಾಮಾಜಿಕ ಬದಲಾವಣೆಯ ಲಕ್ಷಣಗಳನ್ನು ತಿಳಿಸಿ.

ಉತ್ತರ : _____

IV. ಕೆಳಗೆ ಕೊಟ್ಟಿರುವ ಪ್ರಶ್ನೆಗಳಿಗೆ ಐದು ಅಥವಾ ಆರು ವಾಕ್ಯಗಳಲ್ಲಿ ಉತ್ತರಿಸಿ.

1) ಅಕ್ಷರನ ಕಂದಾಯ ವ್ಯವಸ್ಥೆಯನ್ನು ವಿವರಿಸಿ.

ಉತ್ತರ : _____

2) ನೀವೊಂದು ವ್ಯವಹಾರ ಸಂಸ್ಥೆಯನ್ನು ಆರಂಭಿಸಬೇಕಾದರೆ ನಿಮಗೆ ಹಣಕಾಸು ಏಕೆ ಬೇಕು? ವಿವರಿಸಿ.

ಉತ್ತರ : _____

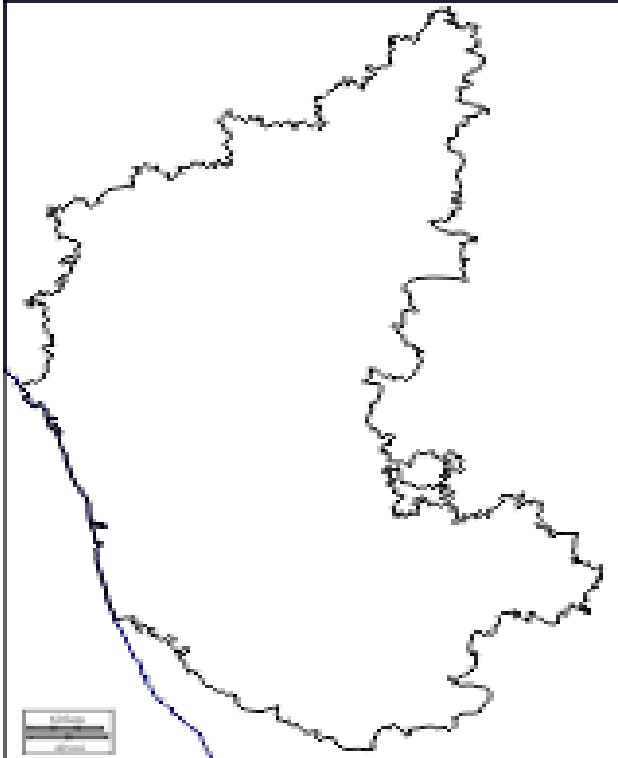
V. ಕೆಲಗೆ ಕೊಟ್ಟಿರುವ ಪ್ರಶ್ನೆಗೆ 5-6 ವಾಕ್ಯಗಳಲ್ಲಿ ಉತ್ತರಿಸಿ

- 1) ಚುನಾವಣಾ ಪ್ರಕ್ರಿಯೆಯ ಹಂತಗಳನ್ನು ತಿಳಿಸಿ.

ಉತ್ತರ : _____

VI. ಕೊಟ್ಟಿರುವ ಕರ್ನಾಟಕ ನಕ್ಷೆಯಲ್ಲಿ ಈ ಕೆಲಗಿನ ಪ್ರದೇಶಗಳನ್ನು ಗುರ್ತಿಸಿ.

- 1) ದಾಂಡೇಲಿ
- 2) ಸಂಡೂರ
- 3) ಕರ್ನಾಟಕದ ಹೆಬ್ಬಾಗಿಲ
- 4) NH 4.



ಮಧ್ಯಯುಗದ ಯೂರೋಪ್

I. ಕೊಡಲಾಗಿರುವ ಅಂಕಣದಲ್ಲಿ ಕೆಲವು ಅಕ್ಷರಗಳನ್ನು ನೀಡಲಾಗಿದ್ದು, ಖಾಲಿ ಇರುವ ಚೌಕಗಳಲ್ಲಿ ಕೆಳಗೆ ನೀಡಿರುವ ಸೂಚನೆಯಂತೆ ಉಳಿದ ಅಕ್ಷರಗಳನ್ನು ತುಂಬಿ ಉತ್ತರಗಳನ್ನು ಕಂಡುಕೊಳ್ಳಿರಿ.

1	ಬೈ						ಮ್ರಾ	
2			ಷಿ					
3		ಲಾ		ಬ				
4	ಸ್ಥಿ							ಲ
5			ಧ				ಗ	

ಸೂಚನೆಗಳು :

- 1) ಸಾ.ಶ.ಪೂ. 395 ರಿಂದ 1453ರ ವರೆಗೆ ಪೂರ್ವರೋಮನ್ ಸಾಮ್ರಾಜ್ಯವನ್ನು ಈ ಹೆಸರಿನಿಂದ ಕರೆಯಲಾಗುತ್ತದೆ.
- 2) ರೋಮನಲ್ಲಿದ್ದ ಜಮೀನ್ದಾರಿ ಆಳುವ ವರ್ಗ.
- 3) ಗುಲಾಮಗಿರಿ ಹೆಸರಲ್ಲಿ ಗುಲಾಮರನ್ನು ತಮ್ಮ ಖಾಸಗಿ ಆಸ್ತಿಯನ್ನಾಗಿ ಮಾಡಿಕೊಂಡಿದ್ದವರು.
- 4) ಯೂರೋಪಿನ ಮಧ್ಯಯುಗವನ್ನು ಜಗತ್ತಿನ ಇತಿಹಾಸದಲ್ಲಿ ಹೀಗೆ ಕರೆಯಲಾಗಿದೆ.
- 5) ಸಾಂಸ್ಕೃತಿಕ ಬರಡುತನವನ್ನು ಹೊಂದಿದ ಮಧ್ಯಯುಗದ ಆರಂಭಿಕ ಕಾಲಘಟ್ಟವನ್ನು ಹೀಗೂ ಕರೆಯಬಹುದು.

II. ಬಿಟ್ಟಿರುವ ಸ್ಥಳಗಳನ್ನು ಸೂಕ್ತ ಉತ್ತರಗಳಿಂದ ಭರ್ತಿ ಮಾಡಿ.

- 1) ಊಳಿಗಮಾನ್ಯ ಪದ್ಧತಿಯು _____ ರ ಅಟ್ಟಹಾಸಗಳನ್ನು ಮಟ್ಟಹಾಕಿತು.
- 2) ಟರ್ಕರು ಕಾನ್‌ಸ್ಟಾಂಟಿನೋಪಲ್ ನಗರವನ್ನು ವಶಪಡಿಸಿಕೊಂಡ ವರ್ಷ _____
- 3) ಪೆಬ್ರೀಷಿಯನ್ನರು ಎಲ್ಲಾ ರಾಜಕೀಯ ಹಕ್ಕುಗಳನ್ನು _____ ಹೆಸರಿನಲ್ಲಿ ಕೇಂದ್ರೀಕರಿಸಿಕೊಂಡಿದ್ದರು.
- 4) ಊಳಿಗಮಾನ್ಯ ವ್ಯವಸ್ಥೆಯ ಪತನವು _____ ವ್ಯವಸ್ಥೆಯ ಬೆಳವಣಿಗೆಗೆ ದಾರಿ ಮಾಡಿಕೊಟ್ಟಿತು.

III. ಕೆಳಗಿನ ಪ್ರಶ್ನೆಗಳಿಗೆ ಒಂದು ಪದ/ವಾಕ್ಯದಲ್ಲಿ ಉತ್ತರ ಬರೆಯಿರಿ.

- 1) ಪ್ಲೇಬಿಯನ್ನರು ಎಂದು ಯಾರನ್ನು ಕರೆಯಲಾಗುತ್ತಿತ್ತು?

ಉತ್ತರ : _____

2) ಯಾವ ಹಿನ್ನೆಲೆಯಲ್ಲಿ ಹಿರಿಯ ಮಗನ ಪ್ರಧಾನತೆ ಜಾರಿಗೆ ಬಂತು?

ಉತ್ತರ : _____

3) ಹಿಡುವಳಿದಾರನು ಸ್ವಾಮಿನಿಷ್ಠೆ ಮತ್ತು ಸ್ವಾಮಿ ಸೇವೆಯ ಪ್ರಮಾಣವನ್ನು ಯಾವ ವಿಧಿಯಲ್ಲಿ ಮಾಡುತ್ತಿದ್ದನು?

ಉತ್ತರ : _____

4) ಧನಿವರ್ಗದಲ್ಲಿದ್ದ ದರ್ಜೆಗಳು ಯಾವುವು?

ಉತ್ತರ : _____

IV. ಈ ಕೆಳಗಿನವುಗಳಿಗೆ ಟಿಪ್ಪಣಿ ಬರೆಯಿರಿ :

1) ಬ್ಲಾಕ್‌ಡೆತ್ :

ಉತ್ತರ : _____

2) ಗುಲಾಮಗಿರಿ :

ಉತ್ತರ : _____

V. ಕೆಳಗಿನ ಪ್ರಶ್ನೆಗೆ 3-4 ವಾಕ್ಯಗಳಲ್ಲಿ ಉತ್ತರಿಸಿ.

1) ಊಳಿಗಮಾನ್ಯ ಪದ್ಧತಿ ಹೇಗೆ ಜನ್ಮ ತಾಳಿತು ಎಂಬುದನ್ನು ವಿವರಿಸಿ.

ಉತ್ತರ : _____

2) ಮಧ್ಯ ಯುಗದ ಯೂರೋಪಿನ ಸ್ಥಿತಿಗಳನ್ನು ತಿಳಿಸಿರಿ.

ಉತ್ತರ : _____

ವಿದ್ಯಾರ್ಥಿಯ ಸ್ವಮೌಲ್ಯಮಾಪನ

ಕ್ರ.ಸಂ	ಕಲಿಕಾ ಸೂಚಕಗಳು	😊	😐	😞
1.	ಮಧ್ಯಯುಗದ ಯೂರೋಪಿನ ಸ್ಥಿತಿಗಳನ್ನು ತಿಳಿಯುತ್ತೇನೆ			
2.	ಊಳಿಗಮಾನ್ಯ ಪದ್ಧತಿಯ ಬಗ್ಗೆ ತಿಳಿಯುತ್ತೇನೆ			

ಶಿಕ್ಷಕರ ಅಭಿಪ್ರಾಯ.

ಅತ್ಯುತ್ತಮ		ಉತ್ತಮ		ಸಾಧಾರಣ	
-----------	--	-------	--	--------	--

I. ಈ ಕೆಳಗಿನ ಪ್ರಶ್ನೆಗಳಿಗೆ ಒಂದು ವಾಕ್ಯದಲ್ಲಿ ಉತ್ತರಿಸಿ.

1) ಯುರೋಪಿನಲ್ಲಿ ಯಾವಾಗ ಹೊಸ ಯುಗ ಆರಂಭವಾಯಿತು?

ಉತ್ತರ : _____

2) 'ಮೊನಾಲಿಸಾ' ಚಿತ್ರದ ಚಿತ್ರಕಾರ ಯಾರು ?

ಉತ್ತರ : _____

3) 'ಆಫ್ರಿಕಾ' ಕಾವ್ಯದ ಕರ್ತೃ ಯಾರು?

ಉತ್ತರ : _____

4) ಸಾ.ಶ 16ನೇ ಶತಮಾನವನ್ನು ಏನೆಂದು ಕರೆಯಲಾಗಿದೆ?

ಉತ್ತರ : _____

II. ಗುಂಪಿಗೆ ಸೇರದ ಪದವನ್ನು ಆರಿಸಿ ಬರೆಯಿರಿ.

1) ಇಟಲಿ, ಜರ್ಮನಿ, ಭಾರತ, ಇಂಗ್ಲೆಂಡ್

2) ಮೈಖಿಲ್ ಏಂಜೆಲೊ, ರಾಫೇಲ್, ಲಿಯೋನಾರ್ಡ್-ಡೆ-ವಿಂಚಿ, ಛಾಸರ್

3) ಜೇಮ್ಸ್‌ಹಾರ್‌ಗ್ರೀವ್ಸ್, ಕ್ಯಾಂಪ್ಟನ್, ಆರ್ಯಭಟ, ಎಲಿವಿಟ್ಟಿ

4) ಜೊರಾಸ್ತ್ರಿಯನ್, ಕ್ಯಾಥೋಲಿಕ್, ಆರ್ಥೋಡಾಕ್ಸ್, ಪ್ರಾಟೆಸ್ಟಂಟ್

III. ಮೊದಲ ಎರಡು ಪದಗಳನ್ನು ಗಮನವಿಟ್ಟು ಓದಿ, ಅವುಗಳಿಗೆ ಇರುವ ಸಂಬಂಧದಂತೆ ಮೂರನೇ ಪದಕ್ಕೆ ಅನುಗುಣವಾದ ನಾಲ್ಕನೇ ಪದವನ್ನು ಬರೆಯಿರಿ.

1) ಷೇಕ್ಸ್‌ಪಿಯರ್ : ನಾಟಕಕಾರ

:: ಟಿಟಿಯನ್ : _____

2) ಭಾರ್ಥಲೋಮ್ಯೂ ಡಯಾಸ್ : ಗುಡ್‌ಹೋಪ್ ಭೂಶಿರ :: ವಾಸ್ಕೋ-ಡಿ-ಗಾಮ : _____

3) ಬೊಕಾಶಿಯೋ : ಇಟಲಿ

:: ಜಾನ್‌ವೈಕ್ಲಿಫ್ : _____

4) ಎಡ್ಮಂಡ್ ಕಾರ್ಲ್‌ರೈಟ್ : ನೇಯ್ಕೆಯಂತ್ರ

:: ಜೇಮ್ಸ್‌ವ್ಯಾಟ್ : _____

IV. 'ಎ' ಪಟ್ಟಿಯಲ್ಲಿ ವಿಜ್ಞಾನಿಗಳ ಹೆಸರನ್ನು 'ಬಿ' ಪಟ್ಟಿಯಲ್ಲಿ ಅವರು ಕಂಡು ಹಿಡಿದ ವಸ್ತುಗಳ (ಯಂತ್ರಗಳ) ಪಟ್ಟಿಯನ್ನು ಕೊಡಲಾಗಿದೆ. ಅವುಗಳನ್ನು ಅನುಕ್ರಮವಾಗಿ ಹೊಂದಿಸಿ ಬರೆಯಿರಿ.

'ಎ' ಪಟ್ಟಿ	'ಬಿ' ಪಟ್ಟಿ	ಉತ್ತರಗಳು
1) ಥಾಮಸ್ ಮ್ಯಾಕೋಮೆಸ್	ಎ) ಆವಿಯ ಹಡಗು	_____
2) ಜಾರ್ಜ್ ಸ್ಟೀವನ್ ಸನ್	ಬಿ) ಸ್ಪಿನ್ನಿಂಗ್ ಜೆನ್ನಿ	_____
3) ರಾಬರ್ಟ್ ಫುಲ್ಟನ್	ಸಿ) ಸರಕು ಸಾಗಾಣೆ ರೈಲು	_____
4) ಜೇಮ್ಸ್ ಹಾರ್ಗ್ರೀವ್ಸ್	ಡಿ) ಆವಿಯ ಯಂತ್ರ	_____

V. ಟಿಪ್ಪಣಿ ಬರೆಯಿರಿ.

1) ಭೌಗೋಳಿಕ ಅನ್ವೇಷಣೆಗಳು

ಉತ್ತರ: _____

2) ಮಾರ್ಟಿನ್ ಲೂಥರ್

ಉತ್ತರ: _____

VI. ಈ ಕೆಳಗಿನ ಪ್ರಶ್ನೆಗಳಿಗೆ 3-4 ವಾಕ್ಯಗಳಲ್ಲಿ ಉತ್ತರಿಸಿ.

1) ಹೊಸ ಬದಲಾವಣೆಗಳು ದೇಶದ ಪ್ರಗತಿಗೆ ಅವಶ್ಯಕ ಎಂಬುದನ್ನು ನಿಮ್ಮದೇ ಮಾತುಗಳಲ್ಲಿ ವಿವರಿಸಿ.

ಉತ್ತರ: _____

2. ಅನ್ವೇಷಣೆಗಳು ದೇಶವನ್ನು ಉತ್ತಮ ಸ್ಥಾನಕ್ಕೆ ಕೊಂಡೊಯ್ಯುತ್ತವೆ ಎಂಬುದನ್ನು ಸಂಕ್ಷಿಪ್ತವಾಗಿ ವಿವರಿಸಿ.

ಉತ್ತರ: _____

ವಿದ್ಯಾರ್ಥಿಯ ಸ್ವಸೌಲ್ಯಮಾಪನ

ಕ್ರ.ಸಂ	ಕಲಿಕಾ ಸೂಚಕಗಳು	☺	☹	☹
1.	ಹೊಸ ಬದಲಾವಣೆಗಳು ದೇಶದ ಪ್ರಗತಿಗೆ ಅವಶ್ಯಕ ಎಂಬುದು ತಿಳಿದಿದ್ದೇನೆ			
2.	ಜ್ಞಾನಿಗಳು ದೇಶವನ್ನು ಬದಲಾಯಿಸುತ್ತಾರೆ ಎಂಬುದನ್ನು ತಿಳಿದಿದ್ದೇನೆ			
3	ಅನ್ವೇಷಣೆಗಳು ದೇಶವನ್ನು ಉತ್ತಮ ಸ್ಥಾನಕ್ಕೆ ಕೊಂಡೊಯ್ಯುತ್ತವೆ ಎಂಬುದನ್ನು ಅರಿತಿದ್ದೇನೆ			

ಶಿಕ್ಷಕರ ಅಭಿಪ್ರಾಯ.

ಅತ್ಯುತ್ತಮ		ಉತ್ತಮ		ಸಾಧಾರಣ	
-----------	--	-------	--	--------	--

ಕ್ರಾಂತಿಗಳು ಮತ್ತು ರಾಷ್ಟ್ರಗಳ ಏಕೀಕರಣ

I. ಕೊಟ್ಟಿರುವ ಹೇಳಿಕೆಯ ಕೆಳಗೆ ನಾಲ್ಕು ಪರ್ಯಾಯ ಉತ್ತರಗಳನ್ನು ನೀಡಲಾಗಿದೆ. ಸರಿಯಾದುದನ್ನು ಆರಿಸಿ ಬರೆಯಿರಿ.

1) ಜಗತ್ತಿನ ಪ್ರಥಮ ಲಿಖಿತ ಸಂವಿಧಾನ ಹೊಂದಿದ ರಾಷ್ಟ್ರ

- ಎ) ಭಾರತ ಬಿ) ಇಂಗ್ಲೆಂಡ್ ಸಿ) ಅಮೇರಿಕಾ ಡಿ) ಫ್ರಾನ್ಸ್

ಉತ್ತರ : _____

2) ಹತ್ತೊಂಬತ್ತನೆಯ ಶತಮಾನದ ಆದಿಭಾಗದಲ್ಲಿ ಜರ್ಮನಿಯ ಸ್ವತಂತ್ರ ರಾಜ್ಯಗಳಲ್ಲಿಯೇ ಅತ್ಯಂತ ದೊಡ್ಡದು ಬಲಶಾಲಿಯೂ ಆದ ರಾಜ್ಯ

- ಎ) ಬವೇರಿಯ ಬಿ) ವುಟೆಂಬರ್ಗ್ ಸಿ) ಬೇಡನ್ ಡಿ) ಹೇಸ್

ಉತ್ತರ : _____

3) ಜರ್ಮನಿ ಏಕೀಕರಣದ ಸಂದರ್ಭದಲ್ಲಿ ಅಲ್ಪೇಸ್ ಮತ್ತು ಲೋರೇನ್ ಪ್ರಾಂತ್ಯಗಳು ಈ ದೇಶದಿಂದ ಜರ್ಮನಿಗೆ ದೊರೆತವು

- ಎ) ಇಟಲಿ ಬಿ) ಡೆನ್ಮಾರ್ಕ್ ಸಿ) ಆಸ್ಟ್ರಿಯಾ ಡಿ) ಫ್ರಾನ್ಸ್

ಉತ್ತರ : _____

II. ಮೊದಲೆರಡು ಪದಗಳ ನಡುವಿನ ಸಂಬಂಧ ತಿಳಿದು ಮೂರನೆಯ ಪದಕ್ಕೆ ಸಂಬಂಧಿಸಿದ ಪದ ಬರೆಯಿರಿ.

1) ಮಾಂಟೆಸ್ಕಿಯೊ : ಸ್ಪಿರಿಟ್ ಆಫ್ ಲಾಸ್ :: ರೂಸೋ : _____

2) ಜೋಸೆಫ್ ಮ್ಯಾಜಿನಿ : ಇಟಲಿ ಆಸ್ತ್ರೀಯ ಪ್ರಾಪಸಿ :: ಕೌಂಟ್ ಕವೂರ್ : _____

III. ಈ ಕೆಳಗಿನ ಪ್ರಶ್ನೆಗಳಿಗೆ ಒಂದು ವಾಕ್ಯದಲ್ಲಿ ಉತ್ತರಿಸಿ.

1) ಸಾ.ಶ.1861 ರಲ್ಲಿ ಯಾರನ್ನು ಇಟಲಿಯ ರಾಜನನ್ನಾಗಿ ಘೋಷಿಸಲಾಯಿತು?

ಉತ್ತರ : _____

2) “ಮಾನವ ಸ್ವತಂತ್ರವಾಗಿ ಜನಿಸಿದ ಆದರೆ ಎಲ್ಲೆಲ್ಲೂ ಸರಪಳಿಯಿಂದ ಬಂಧಿಸಲ್ಪಟ್ಟಿದ್ದಾನೆ” ಈ ಹೇಳಿಕೆಯನ್ನು ನೀಡಿದವರು ಯಾರು?

ಉತ್ತರ : _____

3) ಸಾ.ಶ.1783ರಲ್ಲಿ ಯಾವ ಒಪ್ಪಂದದಂತೆ ಹದಿಮೂರು ವಸಾಹತುಗಳನ್ನು ಬ್ರಿಟನ್ ಸ್ವತಂತ್ರವೆಂದು ಘೋಷಿಸಿತು?

ಉತ್ತರ : _____

4) 15, 16ನೇ ಶತಮಾನದಲ್ಲಿ ಫ್ರಾನ್ಸ್‌ನಲ್ಲಿ ಆಳುತ್ತಿದ್ದ ಮನೆತನ ಯಾವುದು?

ಉತ್ತರ : _____

IV. ಟಿಪ್ಪಣಿ ಬರೆಯಿರಿ.

1) ಕೌಂಟ್ ಕವೂರ್

ಉತ್ತರ : _____

2) ಜೋಸೆಫ್ ಮ್ಯಾಜಿನಿ

ಉತ್ತರ : _____

3) ರಕ್ತ ಮತ್ತು ಕಬ್ಬಿಣ ನೀತಿ

ಉತ್ತರ : _____

4) ಫ್ರಾನ್ಸ್ ಕ್ರಾಂತಿಯ ಪರಿಣಾಮಗಳು

ಉತ್ತರ : _____

- 3) ಜೋಸೆಫ್ ಮ್ಯಾಜಿನಿ, ಕೌಂಟ್ ಕಪೂರ್ ಮತ್ತು ಗ್ಯಾರಿ ಬಾಲ್ಡಿಯನ್ನು ಇಟಲಿಯ ಏಕೀಕರಣದ ಶಿಲ್ಪಿಗಳು ಎಂದು ಕರೆಯುವರು ಏಕೆ?

ಉತ್ತರ : _____

VI. ಈ ಕೆಳಗಿನ ಪ್ರಶ್ನೆಗೆ 3-4 ವಾಕ್ಯಗಳಲ್ಲಿ ಉತ್ತರಿಸಿ.

- 1) ಅಮೇರಿಕಾ ಸ್ವಾತಂತ್ರದ ಸಂಗ್ರಾಮದ ಪ್ರಮುಖ ರೂವಾರಿಗಳನ್ನು ತಿಳಿಸಿ.

ಉತ್ತರ : _____

ವಿದ್ಯಾರ್ಥಿಯ ಸ್ವಮೌಲ್ಯಮಾಪನ

ಕ್ರ.ಸಂ	ಕಲಿಕಾ ಸೂಚಕಗಳು	😊	😐	☹️
1.	ಅಮೇರಿಕಾ ಸ್ವಾತಂತ್ರ್ಯ ಸಂಗ್ರಾಮದ ಬಗ್ಗೆ ತಿಳಿದಿರುವೆ			
2.	ಫ್ರಾನ್ಸಿಸ್ ಮಹಾಕ್ರಾಂತಿ ಬಗ್ಗೆ ತಿಳಿದಿರುವೆ			
3.	ಇಟಲಿ, ಜರ್ಮನಿ ಏಕೀಕರಣದ ಬಗ್ಗೆ ತಿಳಿದಿರುವೆ			

ಶಿಕ್ಷಕರ ಅಭಿಪ್ರಾಯ.

ಅತ್ಯುತ್ತಮ		ಉತ್ತಮ		ಸಾಧಾರಣ	
-----------	--	-------	--	--------	--

I. ಗುಂಪಿಗೆ ಸೇರದ ಪದವನ್ನು ಆರಿಸಿ ಬರೆಯಿರಿ.

1) ಚೈನಾ, ನೇಪಾಳ, ಶ್ರೀಲಂಕಾ, ಅಮೇರಿಕಾ

2) ಪದಾತಿದಳ, ಅಶ್ವದಳ, ಟ್ಯಾಂಕುಗಳ ದಳ, ಶ್ವಾನದಳ

3) ಜನರಲ್, ಬ್ರಿಗೇಡಿಯರ್, ಕ್ಯಾಪ್ಟನ್, ಮೇಜರ್

4) ಪರಮವೀರಚಕ್ರ, ಅಶೋಕಚಕ್ರ, ಮಹಾವೀರಚಕ್ರ, ವೀರಚಕ್ರ

II. ಈ ಕೆಳಗೆ ಕೊಟ್ಟಿರುವ ವಾಕ್ಯಗಳನ್ನು ಗಮನವಿಟ್ಟು ಓದಿ, ಸರಿ ಇದ್ದರೆ 'ಸರಿ' ಎಂದಲೂ ತಪ್ಪಿದ್ದರೆ 'ತಪ್ಪು' ಎಂತಲೂ ಗುರುತಿಸಿ ತಪ್ಪಾಗಿರುವ ವಾಕ್ಯವನ್ನು ಸರಿಪಡಿಸಿ ಬರೆಯಿರಿ.

1) ಭಾರತವು ಸುಮಾರು 15,200 ಕಿ.ಮೀ. ಜಲಗಡಿಯನ್ನೂ, 7516.50 ಭೂಗಡಿಯನ್ನು ಹೊಂದಿದೆ.

ಉತ್ತರ : _____

2) ಭೂಸೇನೆ, ವಾಯುಸೇನೆ ಮತ್ತು ನೌಕಾಸೇನೆಗಳ ದಂಡನಾಯಕರು ಪ್ರಧಾನಿ ಆಗಿರುತ್ತಾರೆ.

ಉತ್ತರ : _____

3) ನೌಕಾಪಡೆಯಲ್ಲಿ ಭಾರತ ಪ್ರಪಂಚದಲ್ಲಿ 8ನೇ ಸ್ಥಾನದಲ್ಲಿದೆ.

ಉತ್ತರ : _____

4) ಪ್ರತಿ ವರ್ಷ ನವೆಂಬರ್ ತಿಂಗಳ ಮೂರನೇ ಶನಿವಾರ ಎನ್.ಸಿ.ಸಿ. ದಿನವಾಗಿದೆ.

ಉತ್ತರ : _____

III. ಮೊದಲ ಎರಡು ಪದಗಳಿಗೆ ಇರುವ ಸಂಬಂಧದಂತೆ ಮೂರನೇ ಪದಕ್ಕೆ ಸಂಬಂಧಿಸಿದ ನಾಲ್ಕನೇ ಪದವನ್ನು ಬರೆಯಿರಿ.

- 1) ಜನರಲ್ : ಭೂಸೇನೆ :: ಅಡ್ಮಿರಲ್ : _____
- 2) ಟ್ರೆಕಿಂಗ್ : ಎನ್.ಸಿ.ಸಿ :: ಯುದ್ಧ ಗಾಯಾಳು ಸೇವೆ : _____
- 3) ಹಂಟರ್ : ವಾಯುಪಡೆ ವಿಮಾನ :: ಐ.ಎನ್.ಎಸ್. ವಿಭೂತಿ : _____

IV. 'ಎ' ಪಟ್ಟಿಯಲ್ಲಿ ಎರಡನೇ ಸಾಲಿನ ರಕ್ಷಣಾ ವ್ಯವಸ್ಥೆಗಳನ್ನು 'ಬಿ' ಪಟ್ಟಿಯಲ್ಲಿ ಅವುಗಳು ಸ್ಥಾಪನೆಯಾದ ವರ್ಷವನ್ನು ನಮೂದಿಸಲಾಗಿದೆ. ಅನುಕ್ರಮವಾಗಿ ಹೊಂದಿಸಿ ಬರೆಯಿರಿ.

'ಎ' ಪಟ್ಟಿ	'ಬಿ' ಪಟ್ಟಿ	ಉತ್ತರಗಳು
1) ಪ್ರಾದೇಶಿಕ ಸೇನೆ	1946	1) _____
2) ಎನ್.ಸಿ.ಸಿ.	1949	2) _____
3) ಗಡಿಭದ್ರತಾ ದಳ	1965	3) _____
4) ಗೃಹ ರಕ್ಷಕ ದಳ	1948	4) _____

V. ಈ ಕೆಳಗಿನ ಪ್ರಶ್ನೆಗಳಿಗೆ 2-3 ವಾಕ್ಯದಲ್ಲಿ ಉತ್ತರಿಸಿ.

- 1) ವಾಯು ಪಡೆಯ ಪರಿಣಾಮಕಾರಿ ಕಮಾಂಡ್‌ಗಳು ಯಾವುವು ?

ಉತ್ತರ : _____

- 2) ಡಿ ಆರ್ ಡಿ ಒ ಅಭಿವೃದ್ಧಿಪಡಿಸಿರುವ ಕ್ಷಿಪಣಿಗಳು ಯಾವುವು ?

ಉತ್ತರ : _____

VI. ಟಿಪ್ಪಣಿ ಬರೆಯಿರಿ :

1) ಎನ್.ಸಿ.ಸಿ. :

ಉತ್ತರ : _____

2) ರೆಡ್‌ಕ್ರಾಸ್ ಸಂಸ್ಥೆ :

ಉತ್ತರ : _____

3) ಭೂಸೇನೆ :

ಉತ್ತರ : _____

4) ಗಡಿಭದ್ರತಾ ದಳ :

ಉತ್ತರ : _____

VII. ಕೊಟ್ಟಿರುವ ಸುಳುಹುಗಳನ್ನು ಆದರಿಸಿ ಸೂಕ್ತವಾದ ಉತ್ತರವನ್ನು ಬರೆಯಿರಿ.

1) ಸುಳುಹುಗಳು :

- ಎ) ಯಾವುದೇ ಹೊರ ರಾಷ್ಟ್ರದ ದಾಳಿಯಿಂದ ರಾಷ್ಟ್ರದ ಭೂಭಾಗವನ್ನು ರಕ್ಷಿಸುವುದು
- ಬಿ) ಗಡಿ ರಕ್ಷಣೆ, ನೈಸರ್ಗಿಕ ವಿಪತ್ತನ್ನು ಎದುರಿಸಲು ಸೂಕ್ತವಾದ ವ್ಯವಸ್ಥೆ
- ಸಿ) ಬ್ರಿಗೇಡಿಯರ್ ಇಲ್ಲಿ ಸೇವಾದರ್ಜೆಯ ಸ್ಥಾನ ಹೊಂದಿರುತ್ತಾರೆ.

ಉತ್ತರ : _____

2) ಸುಳುಹುಗಳು :

- ಎ) ಇದು ಮೊದಲು 1946 ರಂದು ಅಸ್ತಿತ್ವಕ್ಕೆ ಬಂದಿತು
- ಬಿ) ಚುನಾವಣಾ ಸಂದರ್ಭದಲ್ಲಿ ಪೋಲೀಸರಿಗೆ ಸಹಾಯಕವಾಗಿದೆ.
- ಸಿ) ಈ ಸಂಘಟನೆ ಇಡೀ ರಾಷ್ಟ್ರದಾದ್ಯಂತ ವಿಸ್ತರಿಸಿದೆ.

ಉತ್ತರ : _____

3) ಸುಳುಹುಗಳು :

- ಎ) ಸಂವಿಧಾನದ ಮುಖ್ಯಸ್ಥರು
- ಬಿ) ಮೂರು ಸೇನಾಪಡೆಗಳ ಮಹಾದಂಡನಾಯಕರು
- ಸಿ) ರಾಷ್ಟ್ರದ ಪ್ರಥಮ ಪ್ರಜೆಯಾಗಿರುತ್ತಾರೆ

ಉತ್ತರ : _____

ವಿದ್ಯಾರ್ಥಿಯ ಸ್ವಮೌಲ್ಯಮಾಪನ

ಕ್ರ.ಸಂ	ಕಲಿಕಾ ಸೂಚಕಗಳು	😊	😐	😞
1.	ಸೇನಾಪಡೆಗಲ ವಿಧಗಳು ಮತ್ತು ಅವುಗಲ ಹೊಣೆಗಾರಿಕೆ ತಿಳಿಯುವೆನು			
2.	ಸೇನಾಪಡೆಗಳ ಕೇಂದ್ರ ಸ್ಥಾನಗಳು ಮತ್ತು ಮುಖ್ಯಸ್ಥರನ್ನು ತಿಳಿಯುವೆನು			
3	ಎರಡನೇ ಸಾಲಿನ ರಕ್ಷಣಾ ವ್ಯವಸ್ಥೆಯ ಘಟಕಗಳನ್ನು ತಿಳಿಯುವೆನು			

ಶಿಕ್ಷಕರ ಅಭಿಪ್ರಾಯ.

ಅತ್ಯುತ್ತಮ		ಉತ್ತಮ		ಸಾಧಾರಣ	
-----------	--	-------	--	--------	--

I. ಬಿಟ್ಟ ಸ್ಥಳಗಳನ್ನು ಸರಿಯಾದ ಪದಗಳಿಂದ ತುಂಬಿರಿ.

- 1) ನಮ್ಮ ರಾಷ್ಟ್ರಪಕ್ಷಿ _____
- 2) ರಾಷ್ಟ್ರ ಎಂಬ ಪದದಿಂದ _____ ಎನ್ನುವ ಪದ ಬಂದಿದೆ.
- 3) ಭಾರತವು ವಿವಿಧ ಭಾಷೆಗಳ _____

II. 'ಎ' ಪಟ್ಟಿಯಲ್ಲಿ ಭಾವೈಕ್ಯತೆಯ ಅಂಶಗಳನ್ನು 'ಬ' ಪಟ್ಟಿಯಲ್ಲಿ ಐಕ್ಯತೆಯ ವಿಧಗಳನ್ನು ನೀಡಲಾಗಿದೆ. ಇವುಗಳನ್ನು ಹೊಂದಿಸಿ 'ಸಿ' ಪಟ್ಟಿಯಲ್ಲಿ ಬರೆಯಿರಿ :

'ಎ' ಪಟ್ಟಿ	'ಬ' ಪಟ್ಟಿ	'ಸಿ' ಪಟ್ಟಿ
1) ಅರಬ್ಬೀ ಸಮುದ್ರ	ರಾಜಕೀಯ ಐಕ್ಯತೆ	_____
2) ಆಹಾರ ಪದ್ಧತಿ	ಧಾರ್ಮಿಕ ಐಕ್ಯತೆ	_____
3) ಹಿಂದಿ ಭಾಷೆ	ಸಾಂಸ್ಕೃತಿಕ ಐಕ್ಯತೆ	_____
4) ಹಿಂದೂ ಧರ್ಮ	ಭೌಗೋಳಿಕ ಐಕ್ಯತೆ	_____
5) ಒಂದೇ ಸಂವಿಧಾನ	ಭಾಷಾ ಐಕ್ಯತೆ	_____

III. ಈ ಕೆಳಗಿನ ಪ್ರಶ್ನೆಗಳಿಗೆ 2-3 ವಾಕ್ಯಗಳಲ್ಲಿ ಉತ್ತರಿಸಿ :

- 1) ನಮ್ಮ ದೇಶದ ರಾಷ್ಟ್ರೀಯ ಹಬ್ಬಗಳಾವುವು?

ಉತ್ತರ : _____

- 2) ಭಾರತ ಒಂದು ಜಾತ್ಯಾತೀತ ರಾಷ್ಟ್ರವಾಗಿದೆ. ಹೇಗೆ?

ಉತ್ತರ : _____

3) ರಾಷ್ಟ್ರೀಯ ಹಬ್ಬಗಳು ಭಾರತೀಯರನ್ನು ಒಂದುಗೂಡಿಸುವಲ್ಲಿ ಪ್ರಮುಖ ವಹಿಸುತ್ತವೆ. ಹೇಗೆ?

ಉತ್ತರ : _____

4) ರಾಷ್ಟ್ರೀಯತೆಯನ್ನು ನಿರ್ಧರಿಸುವ ಅಂಶಗಳಾವುವು?

ಉತ್ತರ : _____

IV. ಟಿಪ್ಪಣಿ ಬರೆಯಿರಿ.

1) ರಾಷ್ಟ್ರೀಯ ಭಾವೈಕ್ಯತೆ

ಉತ್ತರ : _____

2) ಪರಸ್ಪರ ಅನ್ಯೋನ್ಯತೆ

ಉತ್ತರ : _____

V. ಚಟುವಟಿಕೆ:

1. ಭಾರತದ ತ್ರಿವರ್ಣ ಧ್ವಜದ ಅಂದವಾದ ಚಿತ್ರ ಬರೆದು, ಬಣ್ಣ ಹಚ್ಚಿ ಪ್ರತಿಯೊಂದು ಬಣ್ಣದ ಮಹತ್ವ ಬರೆಯಿರಿ.

ವಿದ್ಯಾರ್ಥಿಯ ಸ್ವಮೌಲ್ಯಮಾಪನ

ಕ್ರ.ಸಂ	ಕಲಿಕಾ ಸೂಚಕಗಳು	😊	☹️	😞
1.	ನಮ್ಮ ರಾಷ್ಟ್ರೀಯ ಲಾಂಛನಗಳನ್ನು ಗುರ್ತಿಸುತ್ತೇನೆ			
2.	ವಿವಿಧತೆಯಲ್ಲಿ ಐಕ್ಯತೆಯನ್ನು ಮೂಡಿಸುವ ಅಂಶಗಳನ್ನು ಪಟ್ಟಿ ಮಾಡುವ ಸಾಮರ್ಥ್ಯ ಹೊಂದಿದ್ದೇನೆ			

ಶಿಕ್ಷಕರ ಅಭಿಪ್ರಾಯ.

ಅತ್ಯುತ್ತಮ		ಉತ್ತಮ		ಸಾಧಾರಣ	
-----------	--	-------	--	--------	--

I. ಮೊದಲೆರಡು ಪದಗಳಿಗಿರುವ ಸಂಬಂಧವನ್ನು ಗ್ರಹಿಸಿ ಮೂರನೇ ಪದಕ್ಕೆ ಸಂಬಂಧ ಕಲ್ಪಿಸಿ ಸೂಕ್ತ ಉತ್ತರ ಬರೆಯಿರಿ.

- 1) ಸಂಚಾರಿ : ಹಿಂದಿ :: ಪೊಕ್ಸನ್ : _____
- 2) ಬಕೆಟ್ ರಿಪೇರಿ ಮಾಡುವುದು : ಅಲ್ಪ ಬಂಡವಾಳದ ಕಾಯಕ ಜೀವಿಗಳು :: ಅಗೋಚರ ಶಕ್ತಿಗಳಲ್ಲಿ ನಂಬಿಕೆ ಉಳ್ಳವರು : _____
- 3) ಸೋಲಿಗ : ದಕ್ಷಿಣ ವಲಯ :: ಗೊಂಡ : _____

II. ಗುಂಪಿಗೆ ಸೇರದ ಪದವನ್ನು ಗುರುತಿಸಿ ಬರೆಯಿರಿ.

- 1) ಕಾಡು ಕುರುಬ, ಕೊರಗ, ಯರವ, ಸಂತಲಾ _____
- 2) ಆದಿವಾಸಿ, ದೇಶವಾಸಿ, ಮೂಲನಿವಾಸಿ, ಗಿರಿಜನ _____
- 3) ಉಪಹಾರ ಮಂದಿರ, ದೇವಾಲಯ, ಮಸೀದಿ, ಚರ್ಚ್ _____

III. ಈ ಕೆಳಗಿನ ಪ್ರಶ್ನೆಗಳಿಗೆ ಒಂದು ವಾಕ್ಯದಲ್ಲಿ ಉತ್ತರಿಸಿ.

- 1) ಸಮುದಾಯ ಎಂದರೇನು ?

ಉತ್ತರ : _____

- 2) ಅಲೆಮಾರಿ ಸಮುದಾಯದ ಲಕ್ಷಣಗಳನ್ನು ತಿಳಿಸಿ.

ಉತ್ತರ : _____

- 3) ಗ್ರಾಮಕ್ಕೆ ಇರುವ ಇತರ ಹೆಸರುಗಳಾವುವು?

ಉತ್ತರ : _____

4) ಗ್ರಾಮದ ರಚನೆಯ ಸ್ವರೂಪ ತಿಳಿಸಿ.

ಉತ್ತರ : _____

IV. ಈ ಕೆಳಗಿನ ಪ್ರಶ್ನೆಗಳಿಗೆ 3-4 ವಾಕ್ಯದಲ್ಲಿ ಉತ್ತರಿಸಿ :

1) ಬುಡಕಟ್ಟುಗಳ ಪ್ರಕಾರಗಳನ್ನು ತಿಳಿಸಿ.

ಉತ್ತರ : _____

2) ಗ್ರಾಮಗಳ ಪ್ರಕಾರಗಳನ್ನು ತಿಳಿಸಿ.

ಉತ್ತರ : _____

3) ನಗರ ಸಮುದಾಯ ಅಕ್ಷಣಗಳನ್ನು ತಿಳಿಸಿ.

ಉತ್ತರ : _____

V. ಈ ಕೆಳಗಿನ ಪ್ರಶ್ನೆಗಳಿಗೆ 5-6 ವಾಕ್ಯದಲ್ಲಿ ಉತ್ತರಿಸಿ.

1) ಗ್ರಾಮ ಸಮುದಾಯದ ಲಕ್ಷಣಗಳನ್ನು ವಿವರಿಸಿ.

ಉತ್ತರ : _____

2) ಬುಡಕಟ್ಟು ಸಮುದಾಯದ ಲಕ್ಷಣಗಳನ್ನು ವಿವರಿಸಿ.

ಉತ್ತರ : _____

ವಿದ್ಯಾರ್ಥಿಯ ಸ್ವಮೌಲ್ಯಮಾಪನ

ಕ್ರ.ಸಂ	ಕಲಿಕಾ ಸೂಚಕಗಳು	😊	😐	☹️
1.	ಸಮುದಾಯದ ಅರ್ಥ, ಅಲೆಮಾರಿ ಮತ್ತು ಬುಡಕಟ್ಟು ಸಮುದಾಯಗಳ ಸ್ವರೂಪ ಲಕ್ಷಣಗಳನ್ನು ಅರ್ಥೈಸಬಲ್ಲೆನು			
2.	ಗ್ರಾಮ ಮತ್ತು ನಗರ ಸಮುದಾಯಗಳ ವ್ಯತ್ಯಾಸಗಳನ್ನು ವರ್ಗೀಕರಿಸುವ ಸಾಮರ್ಥ್ಯ ಹೊಂದಿದ್ದೇನೆ			

ಶಿಕ್ಷಕರ ಅಭಿಪ್ರಾಯ.

ಅತ್ಯುತ್ತಮ		ಉತ್ತಮ		ಸಾಧಾರಣ	
-----------	--	-------	--	--------	--

ಕರ್ನಾಟಕದ ಪ್ರಮುಖ ಪ್ರವಾಸಿ ಕೇಂದ್ರಗಳು

I. ಕೆಳಗೆ ನೀಡಿರುವ ಸ್ಥಳಗಳನ್ನು ಅವುಗಳಿಗೆ ಹೊಂದಿಕೆಯಾಗುವ ಗುಂಪುಗಳಲ್ಲಿ ವಿಂಗಡಿಸಿ ಬರೆಯಿರಿ.

(ಕುದುರೆಮುಖ, ಹಂಪೆ, ನಾಗರಹೊಳೆ, ಉಂಚಳ್ಳಿ, ಜೋಗಿಮಟ್ಟಿ, ಮಾಗೋಡು, ಮೈಸೂರು, ಆಗುಂಬೆ, ಪಟ್ಟದಕಲ್ಲು, ಬನ್ನೇರುಘಟ್ಟ, ಅನ್ನಿ, ಕಲ್ತಗಿರಿ, ನಂದಿಬೆಟ್ಟ, ಬೇಲೂರು, ಬಂಡೀಪುರ, ಅಬ್ಬಿ ಜಲಪಾತ)

ಎ) ಐತಿಹಾಸಿಕ ಸ್ಥಳಗಳು :

ಬಿ) ಗಿರಿಧಾಮಗಳು :

ಸಿ) ವನ್ಯಜೀವಿಧಾಮ :

ಡಿ) ಜಲಪಾತಗಳು :

II ಕೆಳಗಿನ ಪ್ರಶ್ನೆಗಳಿಗೆ ಒಂದು ವಾಕ್ಯಗಳಲ್ಲಿ ಉತ್ತರಿಸಿ.

1) ಭಾರತದ ಅತೀ ಎತ್ತರವಾದ ಜಲಪಾತ ಯಾವುದು?

ಉತ್ತರ : _____

2) ರಂಗನತಿಟ್ಟು ಪಕ್ಷಿಧಾಮ ಎಲ್ಲಿದೆ?

ಉತ್ತರ : _____

3) ಕರ್ನಾಟಕದ ವಿಶ್ವಪರಂಪರೆಯ ತಾಣ ಯಾವುವು?

ಉತ್ತರ : _____

III. ಮೊದಲೆರಡು ಪದಗಳಿಗೆ ಸಂಬಂಧಿಸಿದಂತೆ ಮೂರನೇ ಪದಕ್ಕೆ ಸರಿಯಾದ ಉತ್ತರವನ್ನು ಬರೆಯಿರಿ.

1) ಕುದುರೆಮುಖಿ ಗಿರಿಧಾಮ : ಚಿಕ್ಕಮಗಳೂರು :: ನಂದಿಗಿರಿಧಾಮ : _____

2) ಜೋಗಜಲಪಾತ : ಶರಾವತಿ :: ಗೋಕಾಕ್ ಜಲಪಾತ : _____

3) ಸೇಂಟ್‌ಮೇರೀಸ್ : ದ್ವೀಪ :: ನೇತ್ರಾಣಿ : _____

4) ಮೈಸೂರು : ಅರಮನೆಗಳ ನಗರ :: ಬೆಂಗಳೂರು : _____

IV. ಕೆಳಗಿನ ಪ್ರಶ್ನೆಗಳಿಗೆ 2-3 ವಾಕ್ಯಗಳಲ್ಲಿ ಉತ್ತರಿಸಿ.

1) ಕರ್ನಾಟಕದಲ್ಲಿ ಪ್ರವಾಸೋದ್ಯಮ ನಿಗಮವನ್ನು ಏಕೆ ಸ್ಥಾಪಿಸಲಾಯಿತು?

ಉತ್ತರ : _____

2) ಕರ್ನಾಟಕದ ಪ್ರಮುಖ ಜಲಪಾತಗಳಾವುವು?

ಉತ್ತರ : _____

3) ಕರ್ನಾಟಕದ ಸುಂದರವಾದ ಕಡಲತೀರ ತಾಣಗಳು ಯಾವುವು?


ಉತ್ತರ : _____

V. ಕೆಳಗಿನ ಚಿತ್ರಗಳನ್ನು ಗುರುತಿಸಿ, ಅವುಗಳ ಸ್ಥಳಗಳನ್ನು ಹೆಸರಿಸಿ.

ಎ)



ಬಿ)



ಸಿ)



ಡಿ)



ಇ)



ಎಫ್)



VI. ಟಿಪ್ಪಣಿ ಬರೆಯಿರಿ.

1) ಕರ್ನಾಟಕದ ಕಡಲ ತೀರಗಳು

ಉತ್ತರ: _____

2) ಕರ್ನಾಟಕದ ಕೋಟೆಗಳು

ಉತ್ತರ: _____

VII. ಕರ್ನಾಟಕದ ನಕ್ಷೆ ಬರೆದು ಕೆಲಗಿನ ಸ್ಥಳಗಳನ್ನು ಗುರುತಿಸಿ :

- 1) ಶ್ರೀರಂಗಪಟ್ಟಣ
- 2) ಶೃಂಗೇರಿ
- 3) ಕೆಳದಿ
- 4) ಬಾದಾಮಿ
- 5) ದಾಂಡೇಲಿ
- 6) ಚಿತ್ರದುರ್ಗ


ವಿದ್ಯಾರ್ಥಿಯ ಸ್ವಮೌಲ್ಯಮಾಪನ

ಕ್ರ.ಸಂ	ಕಲಿಕಾ ಸೂಚಕಗಳು	😊	☹️	😞
1.	ಕರ್ನಾಟಕದ ಪ್ರಮುಖ ಪ್ರವಾಸಿ ಕೇಂದ್ರಗಳನ್ನು ಪಟ್ಟಿ ಮಾಡುವೆನು			
2.	ಕರ್ನಾಟಕದ ನಕ್ಷೆಯಲ್ಲಿ ಪ್ರಮುಖ ಪ್ರವಾಸಿ ಕೇಂದ್ರಗಳನ್ನು ಗುರುತಿಸುವೆನು			

ಶಿಕ್ಷಕರ ಅಭಿಪ್ರಾಯ.

ಅತ್ಯುತ್ತಮ		ಉತ್ತಮ		ಸಾಧಾರಣ	
-----------	--	-------	--	--------	--

I. ಕೆಳಗೆ ನೀಡಿರುವ ಪಿರಮಿಡ್ಡಿನಲ್ಲಿ ಖಾಲಿ ಚೌಕಗಳಿಗೆ, ನೀಡಿರುವ ಸೂಚನೆಗೆ ಅನುಸಾರವಾಗಿ ಸರಿ ಉತ್ತರವನ್ನು ತುಂಬಿರಿ.



- 1) ಕರ್ನಾಟಕದಲ್ಲಿರುವ ಒಟ್ಟು ಜಿಲ್ಲೆಗಳ ಸಂಖ್ಯೆ (1)
- 2) ಕರ್ನಾಟಕದಲ್ಲಿ 29,340ಗಳಿವೆ (2)
- 3) ಅತಿ ಕಡಿಮೆ ಜನಸಂಖ್ಯೆ ಹೊಂದಿರುವ ಜಿಲ್ಲೆ (3)
- 4) ಓದು ಬರಹದ ತಿಳುವಳಿಕೆಯುಳ್ಳ ವ್ಯಕ್ತಿ (4)
- 5) ಪ್ರತಿ ಸಾವಿರ ಪುರುಷರಿಗೆ ಇರುವ ಮಹಿಳೆಯರ ಪ್ರಮಾಣ (5)
- 6) ಕರ್ನಾಟಕದ ಜನಸಂಖ್ಯೆ ಬೆಳವಣಿಗೆ ದರ ಭಾರತದ ಜನಸಂಖ್ಯಾ ಬೆಳವಣಿಗೆ ದರಕ್ಕಿಂತ ಕಡಿಮೆಯಿರುವುದಕ್ಕೆ ಕಾರಣಗಳಲ್ಲಿ ಇದು ಒಂದು (6)
- 7) ಅತಿ ಹೆಚ್ಚು ಜನಸಾಂದ್ರತೆ ಹೊಂದಿರುವ ಜಿಲ್ಲೆ (7)
- 8) ಕರ್ನಾಟಕದ ಒಟ್ಟು ಜನಸಂಖ್ಯೆ (8)

II. ಕೆಳಗಿನ ಕೋಷ್ಟಕದಲ್ಲಿರುವ ಅಂಶಗಳ ಆಧಾರದ ಮೇಲೆ ಸೂಚನೆಗನುಸಾರವಾಗಿ ಸೂಕ್ತ ಉತ್ತರಗಳನ್ನು ಆರಿಸಿ ಬರೆಯಿರಿ :

[6, 10, 57, 742, 319, 968, ಶೇ.17.6, 275, ಶೇ.74, 6,11,30,704, ಶೇ.75.6, 965, ಶೇ.15.67] 2011ರ ಜನಗಣತಿಯ ಪ್ರಕಾರ ಕರ್ನಾಟಕದ

- 1) ಸಾಕ್ಷರತೆ ಪ್ರಮಾಣ _____
- 2) ಜನಸಾಂದ್ರತೆ _____
- 3) ಒಟ್ಟು ಜನಸಂಖ್ಯೆ _____
- 4) ಲಿಂಗಾನುಪಾತ _____
- 5) ಜನಸಂಖ್ಯಾ ಬೆಳವಣಿಗೆ ದರ _____

III. ಕೆಳಗಿನ ಹೇಳಿಕೆಗಳಲ್ಲಿ ಸರಿ/ತಪ್ಪು ಹೇಳಿಕೆ ಗುರುತಿಸಿ, ತಪ್ಪಾಗಿರುವ ಹೇಳಿಕೆಯನ್ನು ಸರಿಪಡಿಸಿ ಬರೆಯಿರಿ.

- 1) ಬೆಂಗಳೂರು ನಗರ ಅತಿ ಕಡಿಮೆ ಲಿಂಗಾನುಪಾತ ಹೊಂದಿರುವ ಜಿಲ್ಲೆ ಸರಿ/ತಪ್ಪು

ಉತ್ತರ : _____

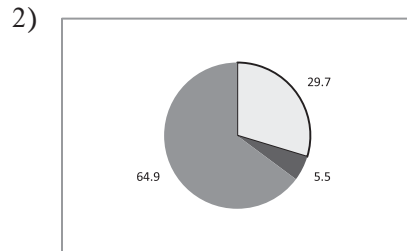
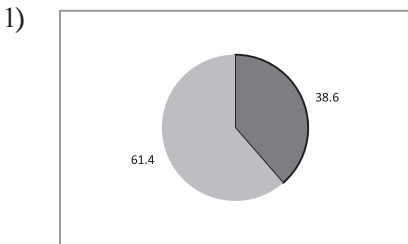
- 2) ಅತಿ ಹೆಚ್ಚು ಸಾಕ್ಷರತೆ ಹೊಂದಿರುವ ಜಿಲ್ಲೆ ಉಡುಪಿ ಸರಿ/ತಪ್ಪು

ಉತ್ತರ : _____

- 3) 2011ರ ಜನಗಣತಿಯ ಪ್ರಕಾರ ಮಹಿಳಾ ಜನಸಂಖ್ಯೆ 3,10,57,742 ಸರಿ/ತಪ್ಪು

ಉತ್ತರ : _____

IV. ಕೆಳಗಿನ ಪೈ ನಕ್ಷೆಯಲ್ಲಿ ನೀಡಿರುವ ಅಂಶದ ಆಧಾರದ ಮೇಲೆ ಕರ್ನಾಟಕದ ಜನಸಂಖ್ಯೆಗೆ ಸಂಬಂಧಿಸಿದ ಮಾಹಿತಿಯನ್ನು ಕೊಟ್ಟಿರುವ ಸ್ಥಳದಲ್ಲಿ ಬರೆಯಿರಿ.



V. ಟಿಪ್ಪಣಿ ಬರೆಯಿರಿ.

1) ಜನಸಾಂದ್ರತೆ : _____

ಉತ್ತರ : _____

2) ಜನಸಂಖ್ಯೆಯ ಮಹತ್ವ : _____

ಉತ್ತರ : _____

VI. ಕೆಳಗಿನ ಪ್ರಶ್ನೆಗಳಿಗೆ ಒಂದು ವಾಕ್ಯಗಳಲ್ಲಿ ಉತ್ತರಿಸಿ.

1) 2011 ರ ಜನಗಣತಿಯ ಪ್ರಕಾರ ಕರ್ನಾಟಕದ ಜನಸಂಖ್ಯೆ ಎಷ್ಟು?

ಉತ್ತರ : _____

2) ಕರ್ನಾಟಕದ ಅತ್ಯಂತ ಜನಭರಿತ ನಗರ ಯಾವುದು?

ಉತ್ತರ : _____

3) ಕರ್ನಾಟಕದ ಅತೀ ಸ್ತ್ರೀಯರ ಪ್ರಮಾಣವುಳ್ಳ ಜಿಲ್ಲೆ ಯಾವುದು?

ಉತ್ತರ : _____

VII. ಕೆಳಗಿನ ಪ್ರಶ್ನೆಗಳಿಗೆ 2-3 ವಾಕ್ಯಗಳಲ್ಲಿ ಉತ್ತರಿಸಿ.

1) ಕರ್ನಾಟಕ ರಾಜ್ಯದ ವಯೋಮಾನ ರಚನೆಯನ್ನು ತಿಳಿಸಿ.

ಉತ್ತರ : _____

2) ಕರ್ನಾಟಕದಲ್ಲಿ ಸಾಕ್ಷರತೆಯ ಬಗ್ಗೆ ತಿಳಿಸಿ.

ಉತ್ತರ : _____

ವಿದ್ಯಾರ್ಥಿಯ ಸ್ವಮೌಲ್ಯಮಾಪನ

ಕ್ರ.ಸಂ	ಕಲಿಕಾ ಸೂಚಕಗಳು	😊	😐	😞
1.	ಕರ್ನಾಟಕದ ಜನಸಂಖ್ಯೆಯ ಅಂಕಿ ಅಂಶಗಳನ್ನು ತಿಳಿದಿರುವೆನು			
2.	ಕರ್ನಾಟಕದ ಭೂಪಟದಲ್ಲಿ ನೀಡಿರುವ ಅಂಶಗಳನ್ನು ಗುರುತಿಸುವೆನು			

ಶಿಕ್ಷಕರ ಅಭಿಪ್ರಾಯ.

ಅತ್ಯುತ್ತಮ		ಉತ್ತಮ		ಸಾಧಾರಣ	
-----------	--	-------	--	--------	--

I. ಈ ಕೆಳಗಿನ ಹೇಳಿಕೆಗಳಿಗೆ ನಾಲ್ಕು ಪರ್ಯಾಯ ಉತ್ತರಗಳನ್ನು ನೀಡಿದ್ದು, ಸರಿಯಾದ ಉತ್ತರವನ್ನು ಆಯ್ಕೆ ಮಾಡಿ ಬರೆಯಿರಿ.

1) 2011ರ ಜನಗಣತಿಯ ಅನುಸಾರ _____ ರಷ್ಟು ಜನರು ಕೆಲಸಗಾರರೆಂದು ಗುರುತಿಸಲ್ಪಟ್ಟಿದ್ದಾರೆ.

ಎ) 49.8%

ಬಿ) 29.8%

ಸಿ) 39.8%

ಡಿ) 59.8%

ಉತ್ತರ : _____

2) ನಿರುದ್ಯೋಗಿಗಳ ಅಂಕಿಅಂಶಗಳನ್ನು ನೀಡುವ ಸಂಸ್ಥೆ.

ಎ) ಬಾಲಕಾರ್ಮಿಕರ ಸಂಸ್ಥೆ

ಬಿ) ಮಹಿಳಾ & ಮಕ್ಕಳ ಸಂಸ್ಥೆ

ಸಿ) ಭಾರತ ಸರ್ಕಾರದ ಕಾರ್ಮಿಕ ಬ್ಯುರೋ ಸಂಸ್ಥೆ

ಡಿ) ಭಾರತ ಸರ್ಕಾರದ ಅಂಕಿ ಅಂಶಗಳ ಸಂಸ್ಥೆ

ಉತ್ತರ : _____

3) ಮಹಾತ್ಮಗಾಂಧಿ ರಾಷ್ಟ್ರೀಯ ಉದ್ಯೋಗ ಖಾತ್ರಿ ಯೋಜನೆ ಜಾರಿಗೆ ಬಂದಿತ್ತು.

ಎ) 25-08-2005

ಬಿ) 25-08-2006

ಸಿ) 02-02-2006

ಡಿ) 02-02-2007

ಉತ್ತರ : _____

4) ಬಡತನ ನಿರ್ಮೂಲನೆ ಮತ್ತು ಮಹಿಳೆಯರ ಸಬಲೀಕರಣದಲ್ಲಿ ಯಶಸ್ಸು ಸಾಧಿಸಿದ ಯೋಜನೆ.

ಎ) ಪ್ರಧಾನ ಮಂತ್ರಿ ರೋಜಗಾರ್ ಯೋಜನೆ

ಬಿ) ನೆಹರು ರೋಜಗಾರ್ ಯೋಜನೆ

ಸಿ) ಸ್ವರ್ಣ ಜಯಂತಿ ಗ್ರಾಮ ಸ್ವರೋಜಗಾರ ಯೋಜನೆ

ಡಿ) ಮಹಾತ್ಮಗಾಂಧಿ ರಾಷ್ಟ್ರೀಯ ಉದ್ಯೋಗ ಖಾತ್ರಿ ಯೋಜನೆ

ಉತ್ತರ : _____

II. ಈ ಕೆಳಗಿನವರನ್ನು ಸಂಘಟಿತ ಮತ್ತು ಅಸಂಘಟಿತ ವಲಯ ಕಾರ್ಮಿಕರು ಎಂದು ವರ್ಗೀಕರಿಸಿ ಬರೆಯಿರಿ.

(ಶಿಕ್ಷಕರು, ಕಟ್ಟಡ ಕಾರ್ಮಿಕರು, ಸರ್ಕಾರಿ ನೌಕರರು, ಬೀದಿ ಬದಿ ವ್ಯಾಪಾರಿಗಳು, ಸಣ್ಣ ಅಂಗಡಿಗಳು, ಕಾಲೇಜು ಉಪನ್ಯಾಸಕರು, ಡಾಕ್ಟರ್)

ಸಂಘಟಿತವಲಯ ಕಾರ್ಮಿಕರು	ಅಸಂಘಟಿತವಲಯ ಕಾರ್ಮಿಕರು

III. ಸರಿ-ತಪ್ಪು ಹೇಳಿಕೆಗಳನ್ನು ಗುರ್ತಿಸಿ ತಪ್ಪಾದ ಹೇಳಿಕೆಗಳನ್ನು ತಿದ್ದಿ ಬರೆಯಿರಿ.

1) ಹೆಚ್ಚು ಪುರುಷ ಕಾರ್ಮಿಕರು ಪ್ರಾಥಮಿಕ ವಲಯದಲ್ಲಿ ಕೆಲಸ ಮಾಡುತ್ತಿದ್ದಾರೆ.

ಉತ್ತರ : _____

2) ವಿಧಾನ ಸಭೆಗಳಲ್ಲಿ, ವಿಧಾನ ಪರಿಷತ್‌ಗಳಲ್ಲಿ ಮತ್ತು ಸಂಸತ್ತಿನಲ್ಲಿ ಮಹಿಳೆಯರ ಪಾತ್ರ ಹೆಚ್ಚುತ್ತದೆ.

ಉತ್ತರ : _____

3) ದೇಶದ ಜನಸಂಖ್ಯೆ ಮತ್ತು ಅನಕ್ಷರತೆ ಆ ದೇಶದ ಅಭಿವೃದ್ಧಿಯನ್ನು ತೀವ್ರಗೊಳಿಸುವಲ್ಲಿ ತುಂಬಾ ಮಹತ್ವದ್ದಾಗಿದೆ.

ಉತ್ತರ : _____

IV. ಕೆಳಗೆ ನೀಡಿರುವ 'ಅ' ಪಟ್ಟಿಯಲ್ಲಿನ ಯೋಜನೆಗಳು 'ಬ' ಪಟ್ಟಿಯಲ್ಲಿರುವ ಯಾವ ವರ್ಷದಲ್ಲಿ ಪ್ರಾರಂಭವಾಯಿತೆಂಬುದನ್ನು ಹೊಂದಿಸಿ ಬರೆಯಿರಿ.

'ಅ' ಪಟ್ಟಿ	'ಬ' ಪಟ್ಟಿ	'ಕ' ಪಟ್ಟಿ
1) ಗ್ರಾಮೀಣ ಯುವಕರಿಗೆ ಸ್ವ-ಉದ್ಯೋಗಕ್ಕಾಗಿ	ಎ) 1993	_____
2) ಸಮಗ್ರ ಗ್ರಾಮೀಣ ಅಭಿವೃದ್ಧಿ ಯೋಜನೆ	ಬಿ) 1990	_____
3) ನಗರ ಕೂಲಿ ಉದ್ಯೋಗ ಯೋಜನೆ	ಸಿ) 1999	_____
4) ಉದ್ಯೋಗ ಭರವಸೆ ಯೋಜನೆ	ಡಿ) 1980	_____
	ಇ) 1979	_____

V. ಈ ಕೆಳಗಿನ ಪ್ರಶ್ನೆಗಳಿಗೆ 2-3 ವಾಕ್ಯಗಳಲ್ಲಿ ಉತ್ತರಿಸಿ.

1) ಸಂಘಟಿತ ವಲಯ ಎಂದರೇನು ? ಉದಾಹರಣೆ ಕೊಡಿ.

ಉತ್ತರ: _____

2) ಕಾರ್ಮಿಕರ ಸಂಖ್ಯೆಯಲ್ಲಿ ಹೆಚ್ಚಳವಾಗಲು ಕಾರಣ ತಿಳಿಸಿ.

ಉತ್ತರ: _____

3) ಉದ್ಯೋಗದಲ್ಲಿ ಕಾಣುವ ಅಡೆತಡೆಗಳನ್ನು ಪಟ್ಟಿ ಮಾಡಿ.

ಉತ್ತರ: _____

- 4) ಸರ್ಕಾರ ಗ್ರಾಮೀಣ ಮತ್ತು ನಗರ ಪ್ರದೇಶಗಳಲ್ಲಿ ಉದ್ಯೋಗ ನೀಡಲು ಜಾರಿಗೊಳಿಸಿರುವ ಯೋಜನೆಗಳನ್ನು ಬರೆಯಿರಿ ?

ಉತ್ತರ: _____

VI. ಈ ಕೆಳಗಿನ ಪ್ರಶ್ನೆಗಳಿಗೆ 3-4 ವಾಕ್ಯಗಳಲ್ಲಿ ಉತ್ತರಿಸಿ.

- 1) ಭಾರತದ ನಿರುದ್ಯೋಗ ಸಮಸ್ಯೆಗೆ ಪ್ರಮುಖ ಕಾರಣಗಳಾವುವು?

ಉತ್ತರ: _____

- 2) ಶ್ರಮ ಎಂದರೇನು ? ಶ್ರಮದ ಲಕ್ಷಣಗಳನ್ನು ಬರೆಯಿರಿ?

ಉತ್ತರ: _____

ವಿದ್ಯಾರ್ಥಿಯ ಸ್ವಪ್ನಾಲ್ಪಮಾಪನ

ಕ್ರ.ಸಂ	ಕಲಿಕಾ ಸೂಚಕಗಳು	😊	😐	☹️
1.	ಶ್ರಮದ ಬಗ್ಗೆ ಹೆಚ್ಚಿನ ಮಾಹಿತಿ ಪಡೆದನು			
2.	ಸರ್ಕಾರದ ವಿವಿಧ ಅಭಿವೃದ್ಧಿ ಕಾರ್ಯ ಯೋಜನೆ ಮಾಹಿತಿ ಪಡೆದನು			
3.	ಕಾರ್ಮಿಕರ ಬಗ್ಗೆ ಮಾಹಿತಿ ಪಡೆದನು			
4.	ಭಾರತದಲ್ಲಿ ನಿರುದ್ಯೋಗಕ್ಕೆ ಕಾರಣಗಳ ಬಗ್ಗೆ ಮಾಹಿತಿ ಪಡೆದನು			

ಶಿಕ್ಷಕರ ಅಭಿಪ್ರಾಯ.

ಅತ್ಯುತ್ತಮ		ಉತ್ತಮ		ಸಾಧಾರಣ	
-----------	--	-------	--	--------	--

I. ಈ ಕೆಳಗಿನವುಗಳನ್ನು ವಿಸ್ತರಿಸಿ ಬರೆಯಿರಿ.

1) AICPA : _____

2) AAA : _____

II. ಈ ಕೆಳಗಿನ ಪ್ರಶ್ನೆಗಳಿಗೆ ನಾಲ್ಕು ಬಹು ಆಯ್ಕೆಗಳಿದ್ದು, ಸರಿಯಾದುದನ್ನು ಆಯ್ದು ಬರೆಯಿರಿ.

1) ಜಮಾ ಮತ್ತು ಖರ್ಚಿನ ದಾಖಲೆಗಳನ್ನು ಸಂಬಂಧಪಟ್ಟ ಲೆಕ್ಕ ಪುಸ್ತಕದಲ್ಲಿ ದಾಖಲೆ ಮಾಡುವ ಕಲೆ

ಎ) ಲೆಕ್ಕ ಬರಹ ನಿರ್ವಹಣೆ

ಬಿ) ಕಚ್ಚಾ ಪುಸ್ತಕ

ಸಿ) ಲಾಭ ಪಡೆಯುವಿಕೆ

ಡಿ) ತಾಳೆಪಟ್ಟಿ

ಉತ್ತರ : _____

2) ಏಕ ನಮೂದು ಪದ್ಧತಿಯಲ್ಲಿ

ಎ) ಒಂದು ಅಂಶ ಫಲ ಕೊಡುತ್ತದೆ ಮತ್ತೊಂದು ಅಂಶ ಫಲ ಪಡೆಯುತ್ತದೆ

ಬಿ) ಖಾತೆಯ ಒಂದು ಕಡೆ ಮಾತ್ರ ದಾಖಲೆ ಮಾಡುತ್ತಾರೆ

ಸಿ) ಕಚ್ಚಾ ಪುಸ್ತಕದ ವಹಿವಾಟು ವಿಶ್ಲೇಷಣೆ ಮಾಡುವುದು

ಡಿ) ನವೀನ ಮತ್ತು ವೈಜ್ಞಾನಿಕ ರೀತಿಯದ್ದಾಗಿದೆ

ಉತ್ತರ : _____

III. ಈ ಕೆಳಗಿನವುಗಳಿಗೆ ಟಿಪ್ಪಣಿ ಬರೆಯಿರಿ.

1) ಲೆಕ್ಕಬರಹ :

ಉತ್ತರ : _____

2) ರೋಜು ಪುಸ್ತಕ :

ಉತ್ತರ : _____

IV. ಈ ಕೆಳಗೆ ನೀಡಿರುವ ಪದಬಂಧವನ್ನು ಸರಿಯಾದ ಪದಗಳೊಂದಿಗೆ ತುಂಬಿರಿ.

1						2
			3		4	
5	6					
	7					

ಮೇಲಿನಿಂದ ಕೆಳಕ್ಕೆ :

- 2) ಬ್ಯಾಂಕಿನಲ್ಲಿ ನಿಮ್ಮ ಹಣದ ಉಳಿತಾಯಕ್ಕೆ ಇದು ಬೇಕು (2)
- 3) ಸರಕುಗಳನ್ನು ಮಾರುವ ಮತ್ತು ಕೊಳ್ಳುವ ಚಟುವಟಿಕೆ (3) ತಿರುಗಿದೆ
- 4) ವಹಿವಾಟುಗಳ ದಾಖಲೆಗಳು ಮೊದಲು ದಾಖಲಾಗುವುದು ಇಲ್ಲಿ (5)
- 6) ನಮ್ಮ ಕೈಯಲ್ಲಿರುವ ಹಣದ ರೂಪ (3) (ತಿರುಗಿದೆ)

ಎಡದಿಂದ ಬಲಕ್ಕೆ

- 1) ಜಮಾ ಮತ್ತು ಖರ್ಚು ಮುಖ್ಯ ಪಾತ್ರವಹಿಸುವುದು ಎಲ್ಲಿ (5)
- 5) ಇದರಲ್ಲಿ ವ್ಯಾಪಾರ ವಹಿವಾಟನ್ನು ಎರಡು ಖಾತೆಗಳಲ್ಲಿ ದಾಖಲಿಸುತ್ತೇವೆ (4)
- 7) ಸಂಸ್ಥೆಯ ವ್ಯಕ್ತಿಗಳೊಂದಿಗೆ ಮಾಡುವ ವ್ಯವಹಾರವನ್ನು ಬರೆದಿಡುವ ಖಾತೆ (5)

V. ಈ ಕೆಳಗಿನ ಪ್ರಶ್ನೆಗಳಿಗೆ ಒಂದು ವಾಕ್ಯಗಳಲ್ಲಿ ಉತ್ತರಿಸಿ.

1) ತಾಳೆಪಟ್ಟಿ ಎಂದರೇನು?

ಉತ್ತರ : _____

2) ಖಾತೆ ಎಂದರೇನು?

ಉತ್ತರ : _____

3) ಆಸ್ತಿ ಖಾತೆಗಳು ಎಂದರೇನು?

ಉತ್ತರ : _____

VI. ಈ ಕೆಳಗಿನ ಪ್ರಶ್ನೆಗಳಿಗೆ 3-4 ವಾಕ್ಯಗಳಲ್ಲಿ ಉತ್ತರಿಸಿ.

1) ಲೆಕ್ಕ ಬರಹದ ಅವಶ್ಯಕತೆಯನ್ನು ಬರೆಯಿರಿ?

ಉತ್ತರ : _____

2) ದ್ವಿ ನಮೂದು ಪ್ರಕಾರ ಲೆಕ್ಕ ಬರಹದಲ್ಲಿ ನಿರ್ವಹಿಸುವ ಕ್ರಮವನ್ನು ತಿಳಿಸಿ?

ಉತ್ತರ : _____

VII. ಈ ಕೆಳಗಿನ ಪ್ರಶ್ನೆಗೆ 3-4 ವಾಕ್ಯಗಳಲ್ಲಿ ಉತ್ತರಿಸಿ.

1) ಲೆಕ್ಕ ಬರಹದ ಉಪಯೋಗಗಳನ್ನು ತಿಳಿಸಿ?

ಉತ್ತರ : _____

ಹೆಚ್ಚುವರಿ ಚಟುವಟಿಕೆಗಳು

- ನಿಮ್ಮ ಹತ್ತಿರದ ಬ್ಯಾಂಕ್/ಅಂಚೆ ಕಚೇರಿಗೆ ಭೇಟಿ ನೀಡಿ ಹಣಕಾಸು ವ್ಯವಹಾರದ ಕುರಿತು ಮಾಹಿತಿ ಸಂಗ್ರಹಿಸಿ ಬರೆಯಿರಿ.
- ದಿನಪತ್ರಿಕೆಗಳಲ್ಲಿ ಬರುವ ಕರ್ನಾಟಕದ ಪ್ರವಾಸ ಸ್ಥಳಗಳ ಚಿತ್ರಗಳನ್ನು ಸಂಗ್ರಹಿಸಿ
- ನಿಮ್ಮ ಗ್ರಾಮದಲ್ಲಿ ಅಸ್ತಿತ್ವದಲ್ಲಿರುವ ಸ್ತ್ರೀಶಕ್ತಿ ಸಂಘಗಳ ಕಾರ್ಯಚಟುವಟಿಕೆಗಳ ಮಾಹಿತಿ ಸಂಗ್ರಹಿಸಿ.
- ನಿಮ್ಮ ಗ್ರಾಮ ಪಂಚಾಯಿತಿಗೆ ಭೇಟಿ ನೀಡಿ ಸ್ಥಳೀಯ ಸರ್ಕಾರದ ರಚನೆ ಕುರಿತಾದ ಮಾಹಿತಿ ಸಂಗ್ರಹಿಸಿ.
- ನಿಮ್ಮ ಹತ್ತಿರದ ಐತಿಹಾಸಿಕ ಸ್ಥಳಗಳಿಗೆ ಭೇಟಿ ನೀಡಿ ಅವುಗಳ ಮಹತ್ವವನ್ನು ತಿಳಿಯಿರಿ.
- ನಿಮ್ಮ ಸಮೀಪದ ಕಾರ್ಖಾನೆಗೆ ಭೇಟಿ ನೀಡಿ ಅಲ್ಲಿನ ಉತ್ಪಾದನೆ/ ವಿತರಣೆ ಕುರಿತು ಮಾಹಿತಿ ಸಂಗ್ರಹಿಸಿ.
- ನಿಮ್ಮ ಗ್ರಾಮದಲ್ಲಿ ಬೆಳೆಯುವ ಬೆಳೆಗಳನ್ನು ಪಟ್ಟಿ ಮಾಡಿ.
- ನಿಮ್ಮ ಜಮೀನಿನಲ್ಲಿನ ಮಣ್ಣಿನ ಮಾದರಿಯನ್ನು ಸಂಗ್ರಹಿಸಿ ಮಾಹಿತಿ ಬರೆಯಿರಿ

(ಚಟುವಟಿಕೆಗಳಿಗೆ ಪ್ರತ್ಯೇಕ ಹಾಳೆಗಳನ್ನು ಬಳಸುವುದು)

ವಿದ್ಯಾರ್ಥಿಯ ಸ್ವಮೌಲ್ಯಮಾಪನ

ಕ್ರ.ಸಂ	ಕಲಿಕಾ ಸೂಚಕಗಳು	😊	☹️	😞
1.	ಲೆಕ್ಕ ಬರಹದ ಅರ್ಥವನ್ನು ತಿಳಿದುಕೊಂಡಿದ್ದೇನೆ			
2.	ದಾಖಲೆ ನಮೂದು ಪದ್ಧತಿಗಳನ್ನು ಅರ್ಥೈಸಿಕೊಂಡಿದ್ದೇನೆ			
3.	ಖಾತೆಗಳ ಕುರಿತು ವಿವರಿಸಲು ಸಮರ್ಥನಾಗಿದ್ದೇನೆ			
4.	ರೋಜು ಪುಸ್ತಕದ ನಮೂನೆ ಸಿದ್ಧಪಡಿಸಬಲ್ಲೆನು			

ಶಿಕ್ಷಕರ ಅಭಿಪ್ರಾಯ.

ಅತ್ಯುತ್ತಮ		ಉತ್ತಮ		ಸಾಧಾರಣ	
-----------	--	-------	--	--------	--

I. ಕೆಳಗೆ ಕೊಟ್ಟಿರುವ ಪ್ರಶ್ನೆಗಳಿಗೆ ಸರಿಯಾದ ಉತ್ತರವನ್ನು ಆರಿಸಿ ಸೂಕ್ತ ಕ್ರಮಾಂಕದೊಂದಿಗೆ ಉತ್ತರಿಸಿ.

1) ಪೂರ್ವ ರೋಮನ್ ಸಾಮ್ರಾಜ್ಯವನ್ನು _____ ಸಾಮ್ರಾಜ್ಯವೆಂದು ಕರೆಯುತ್ತಾರೆ.

- ಅ) ಬೈಜಾಂಟಿಯನ್ ಬ) ಕ್ಯಾಥೋಲಿಕ್
ಕ) ರುಝರ್ ಡ) ಯವನ.

ಉತ್ತರ : _____

2) ಸಂವಿಧಾನಬದ್ಧವಾಗಿ ಅಂಗೀಕರಿಸಿದ ಭಾರತದ ಭಾಷೆಗಳ ಸಂಖ್ಯೆ _____

- ಅ) 22 ಬ) 25 ಕ) 18 ಡ) 24

ಉತ್ತರ : _____

II. ಕೆಳಗೆ ಕೊಟ್ಟಿರುವ ಪ್ರಶ್ನೆಗಳಿಗೆ ಒಂದು ಪದ ಅಥವಾ ಒಂದು ವಾಕ್ಯದಲ್ಲಿ ಉತ್ತರಿಸಿ.

1) ಬುಡಕಟ್ಟು ಎಂದರೇನು?

ಉತ್ತರ : _____

2) ಅತೀ ಕಡಿಮೆ ಜನಸಾಂದ್ರತೆಹೊಂದಿರುವ ಕರ್ನಾಟಕದ ಜಿಲ್ಲೆ ಯಾವುದು?

ಉತ್ತರ : _____

III. ಕೆಳಗೆ ಕೊಟ್ಟಿರುವ ಪ್ರಶ್ನೆಗಳಿಗೆ ಎರಡು ಅಥವಾ ಮೂರು ವಾಕ್ಯದಲ್ಲಿ ಉತ್ತರಿಸಿ.

1) ಲೆಕ್ಕಬರಹದ ಯಾವುದಾದರೂ ನಾಲ್ಕು ಪ್ರಯೋಜನಗಳನ್ನು ತಿಳಿಸಿ?

ಉತ್ತರ : _____

2) NCC ಯಿಂದ ಸಿಗುವ ಸೌಲಭ್ಯಗಳೇನು?

ಉತ್ತರ : _____

III. ಕೆಳಗೆ ಕೊಟ್ಟಿರುವ ಪ್ರಶ್ನೆಗಳಿಗೆ ಐದು ಅಥವಾ ಆರು ವಾಕ್ಯಗಳಲ್ಲಿ ಉತ್ತರಿಸಿ.

1) ಫ್ರಾನ್ಸ್ ಕ್ರಾಂತಿಗೆ ಸಾಮಾಜಿಕ ಮತ್ತು ಆರ್ಥಿಕ ಕಾರಣಗಳೇನು? ವಿವರಿಸಿ.

ಉತ್ತರ : _____

2) ನಿಮ್ಮ ಪರಿಸರದಲ್ಲಿರುವ ಬಹುತೇಕ ಜನರಿಗೆ ಉದ್ಯೋಗವಕಾಶಗಳಿಲ್ಲದಿರುವುದಕ್ಕೆ ಕಾರಣಗಳನ್ನು ತಿಳಿಸಿ.

ಉತ್ತರ : _____

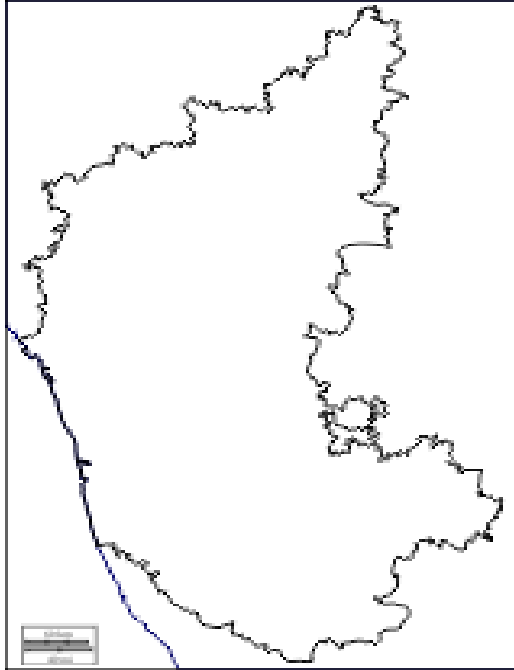
IV. ಕೆಳಗೆ ಕೊಟ್ಟಿರುವ ಪ್ರಶ್ನೆಗೆ 7-8 ವಾಕ್ಯಗಳಲ್ಲಿ ಉತ್ತರಿಸಿ.

- 1) ಕೈಗಾರಿಕಾಕ್ರಾಂತಿಗೆ ಕಾರಣಗಳನ್ನು ಮತ್ತು ಪರಿಣಾಮಗಳನ್ನು ಸಂಕ್ಷಿಪ್ತವಾಗಿ ವಿವರಿಸಿ.

ಉತ್ತರ : _____

V. ಕೊಟ್ಟಿರುವ ಕರ್ನಾಟಕ ನಕ್ಷೆಯಲ್ಲಿ ಈ ಕೆಳಗಿನ ಪ್ರದೇಶಗಳನ್ನು ಗುರುತಿಸಿ.

- 1) ಗೋಕಾಕ ಜಲಪಾತ 2) ಮಲ್ಲಿಕೆ ರಹಾನ್ ದರ್ಗಾ 3) ಅರಮನೆಗಳನಗರ 4) ಪಟ್ಟದಕಲ್ಲು.



ಶಿಕ್ಷಕರ ಅಭಿಪ್ರಾಯ

ಅತ್ಯುತ್ತಮ

ಉತ್ತಮ

ಸಾಧಾರಣ